

## الوحدة الأولى الدرس الأول : أنواع الموارد

- تضم البيئة نوعين من الموارد هما الموارد الطبيعية والموارد البشرية .  
# الموارد الطبيعية : هى الثروات التى وهبها الله للإنسان دون جهد من جانبه مثل مصادر المياه والتربة والهواء والنبات الطبيعى والحيوان البرى والثروة المعدنية .

- ١) المياه ضرورية لحياة الإنسان والحيوان والنبات .  
٢) الخامات ضرورية للصناعة ( زراعية - حيوانية - معدنية ) .  
٣) التربة ضرورية لزراعة المحاصيل الغذائية .  
٤) مصادر الطاقة أساس التقدم الصناعى .  
٥) بعض الموارد الطبيعية ( عيون المياه الكبريتية ، الرمال ) تقوم عليها أنواع من السياحة كسياحة الشواطئ والسياحة العلاجية .

# الموارد البشرية : هى الموارد التى يقوم بإنتاجها الإنسان لإشباع حاجاته مثل المنتجات الزراعية والمنتجات الصناعية

### معلومات مهمة

- نهر النيل أهم مصادر المياه العذبة فى مصر .
- النشاط الصناعى يتطلب وجود مصادر طاقة مثل البترول .
- الإسراف فى استخدام المياه إهدار للموارد الطبيعية .
- البترول والغاز الطبيعى من المصادر الرئيسية للطاقة والدخل القومى فى مصر .
- التعليم وسيلة لزيادة الكفاءة البشرية .
- نمو المدن وتزايد وسائل المواصلات نتيجة للنشاط البشرى فى مجال الصناعة .
- قامت الزراعة فى وادى النيل ودلتاه بسبب وفرة المياه العذبة والتربة الخصبة .
- توجد فى مصر نباتات صحراوية ولا يتوافر فيها غابات طبيعية بسبب الظروف المناخية

### • أنواع الموارد المائية :

أولا المياه العذبة : توجد فى نهر النيل والمياه الجوفية ومياه الأمطار وبحيرة ناصر .  
ثانيا المياه المالحة : توجد فى البحر الأحمر والبحر المتوسط والبحيرات المالحة .

### مهمة المياه العذبة

- ١- تساعد على قيام الزراعة .
- ٢- مصدر رئيسى للشرب والأغراض المنزلية .
- ٣- تستخدم فى إنتاج الطاقة الكهرومائية كما فى السد العالى وبعض القناطر على النيل .
- ٤- مصدر هام للثروة السمكية .
- ٥- تعتبر طرق نقل هامة ورخيصة .

### مهمة المياه المالحة

- ١- نستخرج منها العديد من الأملاح المهمة مثل ملح الطعام .
  - ٢- مصدر رئيسى لإنتاج الأسماك فى مصر .
  - ٣- نستخدمها فى النقل البحرى وتصدير منتجات مصر للخارج عن طريق الموانئ
  - ٤- نستخرج من قاع البحار البترول والغاز الطبيعى .
- الفيضان : زيادة منسوب الماء فى النهر أعلى من ضفافه .  
- التلوث : تغيرات فى بعض الموارد الطبيعية فتصبح غير صالحة للاستخدام .

### مفاهيم

لمزيد من المذكرات والكتب زر موقعنا المدرس بوك ( [www.modrsbook.com](http://www.modrsbook.com) )

- الجفاف: حالة مناخية تندر فيها الأمطار مما يضر بالأنشطة البشرية خاصة الزراعة والرعى

عبدالرازق العربى ٠١٠٠٨١٩٧٠٥٨ باء وحماية مصر من خطر

الفيضان والجفاف وزيادة الأراضي الزراعية.

- يستخرج البترول من خليج السويس ومن أكبر حقوله بلاعيم البحرى .

- تم توصيل مياه نهر النيل إلى شمال سيناء عن طريق ترعة السلام.

- واحة سيوة من الواحات المصرية وتعتمد الحياة فيها على المياه الجوفية .

- يعتمد شمال مصر على الأمطار الشتوية فى الزراعة .

- حقل بلاعيم البحرى واحدا من أكبر الحقول البحرية بخليج السويس لاستخراج البترول .

- البحيرات الشمالية المالحة مثل البردويل والمنزلة والبرلس وإدكو ومربوط كما توجد بحيرة

قارون بالفيوم غرب وادى النيل .

معلومات مهمة

سبب تلوث المياه

١ - تصريف مياه الصرف الصحى والزراعى الملوثة بالمبيدات والأسمدة .

٢ - إلقاء مخلفات الصرف الصحى فى مياه الأنهار والبحار .

٣ - إلقاء المخلفات السائلة للمصانع دون معالجتها فى مياه النهر أو البحر .

٤ - تسرب زيوت البترول من ناقلات البترول فى مياه البحار .

١ - معالجة مخلفات الصرف الصحى ومياه الصرف الزراعى

جهود الدولة لحماية المياه من التلوث وتتميتها

٢ - مراقبة السواحل .

٣ - زيادة حملات التوعية بأهمية ترشيد استهلاك المياه .

٤ - استخدام أساليب رى حديثة .

٥ - حفر الآبار العميقة .

### الدرس الثانى : الثروة المعدنية ومصادر الطاقة

• المعادن : مواد طبيعية صلبة تستخرج من باطن الأرض وقد تكون قريبة أو بعيدة عن سطح الأرض .

• تختلف أهمية المعادن حسب : استخدامها وتوزيعها وكمية وجودها .

• الموارد المعدنية : [ الحديد - الفوسفات - المنجنيز - الذهب ] .

الحديد : هو أساس الصناعات الحديثة حيث يدخل فى صناعة قضبان السكك الحديدية

والسيارات والآلات .

• أماكن تواجده فى مصر : الواحات البحرية وشرق أسوان والصحراء الشرقية .

الفوسفات : أهميته : صناعة الأسمدة الزراعية والمبيدات الحشرية.

- يصدر للخارج بكميات كبيرة

• أماكن تواجده : ١ - الوادى الجديد بالصحراء الغربية ( أبوظرطور ) .

٢ - على سواحل البحر الأحمر بين سفاجا والقصور .

٣ - السباعية بمحافظة أسوان .

المنجنيز : أهميته : يدخل فى صناعة الحديد والصلب .

• أماكن تواجده : يستخرج من أم بجمة بشبه جزيرة سيناء .

لمزيد من المذكرات والكتب زر موقعنا المدرس بوك ( [www.modrsbook.com](http://www.modrsbook.com) )

**الذهب:** أهميته : يستخدم في صنع الحلى ويدخل في بعض أنواع الأدوية.

- أماكن تواجده : في الصحراء الشرقية في جبال البحر الأحمر ( منجم السكري ).
- الفوسفات أكثر المعادن انتشارا في مصر والذهب أغلاها ثمنا .
- يعتمد مصنع حلوان للحديد والصلب على حديد الواحات البحرية .
- تعتمد الزراعة في مصر على سماد السوبر فوسفات الذي ينتجه مصنع أبوزعبل .
- أول من نقب عن الذهب قداماء المصريين بدليل وجود ٩٠ منجما قديما في الصحراء الشرقية
- تم استخراج خامات من معدن الذهب من منجم السكري بالبحر الأحمر عام ٢٠١٠م

### معلومات مهمة

### جهود الدولة لتنمية الموارد المعنية

- ١- تشجيع المستثمرين على البحث والتنقيب عن المعادن
- ٢- البحث عن بدائل لاستخدام المعادن في الصناعة مثل البلاستيك
- ٣- استخدام الوسائل التكنولوجية في البحث والتنقيب عن المعادن .

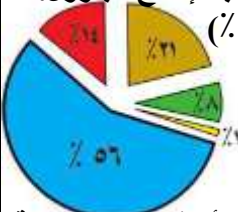
### الدرس الثالث : مصادر الطاقة وتنميتها

- تنقسم إلى مصادر طاقة غير متجددة مثل الفحم والبتروول والغاز الطبيعي والكهرباء الحرارية ومصادر طاقة متجددة مثل الشمس والرياح والأمواج والكهرباء المائية .
- \$ أولا مصادر الطاقة غير المتجددة : ( تنفذ باستهلاك الإنسان لها ولا يمكن تعويضها )
- ( أ ) الفحم : توجد مناجمه في منطقة جبل مغارة في شمال سيناء .
- يستخدم فحم الكوك في صناعة الصلب ويستورد من الخارج .
- الفحم قليل الأهمية الاقتصادية عن البتروول والغاز الطبيعي للأسباب الآتية :

- ١- ثقل الوزن ويصعب نقله لمسافات طويلة.
- ٢- يلوث البيئة عند احتراقه لأنه يخرج غاز ثاني أكسيد الكربون بكميات كبيرة .
- ٣- مرتفع تكلفة النقل بسبب كبر حجمه

- ( ب ) البتروول : يستخرج من حقول البتروول بباطن الأرض من البر أو البحر .
- أهميته : يعطى مشتقات عند تكريره عند درجات حرارة مختلفة مثل : البنزين والسولار والمازوت والغاز وتدخل خاماته في كثير من الصناعات مثل البلاستيك .
- مناطق إنتاجه : خليج السويس وشبه جزيرة سيناء والصحراء الغربية والصحراء الشرقية والبحر المتوسط .

- ( ج ) الغاز الطبيعي : يوجد في مصر في حقول مستقلة أو حقول مصاحبة لإنتاج البتروول .
- ويستخرج من منطقة البحر المتوسط ( ٥٦ ٪ ) والصحراء الغربية ( ٢١ ٪ )
- وخليج السويس ( ٨ ٪ ) وسيناء ( ١ ٪ ) ومناطق أخرى ( ١٤ ٪ ) .
- أهميته : ١ - يستخدم في الأغراض المنزلية .



- ٢ - يستخدم كوقود لبعض وسائل المواصلات .
- ٣ - يستخدم في توليد الكهرباء الحرارية .

- ( د ) الكهرباء الحرارية: تولد من محطات شبرا الخيمة وشمال القاهرة وأبوقير بالإسكندرية
- \$ ثانيا مصادر الطاقة المتجددة : ( لا تنفذ باستهلاك الإنسان لها )
- ( أ ) الطاقة الشمسية : تستخدم في الأغراض المنزلية مثل تسخين المياه من السخانات الشمسية .

ب) الرياح : يتم توليد الكهرباء من الرياح كما فى محطة الزعفرانة .

ج) الأمواج : يمكن أن تستغل مصر الأمواج فى توليد الكهرباء .

د) كهرباء مائية ( كهرومائية ) : مصر أولى الدول العربية إنتاجا لها ومن أمثلتها :

محطة كهرباء السد العالى ومحطة كهرباء خزان أسوان ومحطة كهرباء قناطر إسنا.

- حقل أبو ماضى فى شمال الدلتا أحد الحقول الرئيسية لإنتاج الغاز الطبيعى فى مصر .

- تنقسم قناطر إسنا إلى قطرتين هما القطرلة القديمة وتم بناؤها عام

١٩٠٦م والقطرلة الحديثة ويتم توليد الكهرباء منها حاليا .

- بدأ استخدام الكهرباء فى مصر أوائل القرن العشرين واستخدمت فى

الصناعة عام ١٩٣٠م وتنقسم إلى كهرباء حرارية وكهرباء مائية .

- الطاقة المتجددة نظيفة غير ملوثة للبيئة ومن أهم مشاكلها أنها تحتاج لرعوس أموال كثيرة .

- الطاقة الشمسية فى مصر طاقة نظيفة ودائمة حيث تمتاز مصر بسطوع الشمس طوال العام .

- بدأ بناء السد العالى عام ١٩٦١م وافتتح عام ١٩٧١م وهو أعظم مشروع هندسى فى القرن ٢٠

- تمثل محطات الطاقة الكهرومائية ١٨٪ من إجمالى الطاقة الكهربائية .

- تم افتتاح المرحلة الثانية من محطة توليد كهرباء شمال القاهرة سنة ٢٠٠٧م

- الطاقة : كل ما ينتج عن احتراق الوقود أو حرارة الشمس أو قوة الرياح أو تساقط المياه أو

ضغط الأمواج

- تكرير البترول : عملية يتم فيها فصل مكونات البترول عن الزيت الأصى .

- الطاقة الكهرومائية : هى الكهرباء المائنة المولدة من السدود والقناطر والخزانات.

- الكهرباء الحرارية : هى الكهرباء الناتجة من احتراق الفحم والبترول والغاز الطبيعى .

١- الاهتمام بالبحث العلمى فى مجال استخدام الطاقة المتجددة .

٢- تشجيع المستثمرين على البحث والتنقيب عن آبار البترول .

٣- ترشيد استهلاك الطاقة .

س ١: اذكر أهمية الموارد الطبيعية .

س ٢: أين توجد المياه العذبة فى مصر ؟

س ٣: أين توجد المياه المالحة فى مصر ؟

س ٤: اذكر أهمية المياه العذبة .

س ٥: اذكر أهمية المياه المالحة .

س ٦: عرف كلا من :

أ) الموارد الطبيعية ب) التلوث ج) الموارد البشرية د) فيضان

س ٧: اذكر أماكن وجود المعادن الآتية فى مصر . ثم بين أهميتها ؟

أ) الحديد ب) الفوسفات ج) المنجنيز د) الذهب

س ٨: أول من نقب عن الذهب قدماء المصريين . أثبت صحة هذه العبارة .

س ٩: اذكر جهود الدولة لتنمية الموارد المعدنية .

س ١٠: اذكر بعض مصادر الطاقة المتجددة .

س ١١: اذكر بعض مصادر الطاقة غير المتجددة .

لمزيد من المذكرات والكتب زر موقعنا المدرس بوك ( [www.modrsbook.com](http://www.modrsbook.com) )

س ١٢ : لماذا يعتبر الفحم أقل أهمية من البترول والغاز الطبيعي ؟

س ١٣ : اذكر بعض مشتقات البترول .

س ١٤ : عرف كلا من : أ) كهرباء حرارية ب) طاقة ج) تكرير البترول د) طاقة كهرومائية

س ١٥ : اذكر أمثلة لمحطات الكهرباء المائية في مصر .

س ١٦ : اذكر أمثلة لمحطات الكهرباء الحرارية في مصر .

س ١٧ : اكتب المفهوم أو المصطلح الدل على كل عبارة مما يأتي :

- ١- حدوث تغيرات لبعض الموارد الطبيعية فتصبح غير نظيفة و تضر بصحتنا .
- ٢- ما يقوم به الإنسان من أنشطة متنوعة مثل الزراعة أو الصناعة أو التعليم .
- ٣- المصدر الرئيسي للمياه العذبة في مصر .
- ٤- حالة مناخية تندر فيها الأمطار .
- ٥- تعد مصدرا رئيسيا لإنتاج الأسماك في مصر .
- ٦- كل الموارد التي منحها الله الإنسان دون جهد من جانبه في تكوينها .
- ٧- زيادة منسوب الماء في النهر مما يؤدي لغمر الأرض المحيطة به .
- ٨- عملية يتم فيها فصل البترول عن الزيت الأصلي .
- ٩- كهرباء ناتجة عن احتراق الفحم و البترول و الغاز الطبيعي .
- ١٠- مولدة من خلف السدود و القناطر .
- ١١- طاقة لا تنتهي .

س ١٨ : اختر الإجابة الصحيحة مما بين القوسين :

- ١- يعد ..... من الموارد البشرية . ( الفحم - السائق - الأمطار - الجبل )
- ٢- يعد ..... من الموارد الطبيعية . ( الفلاح - الطريق - الهضبة - السد )
- ٣- حمى السد العالي مصر من ..... ( التلوث - القوضى - الجفاف - الفيضان والجفاف معا )
- ٤- المياه العذبة في مصر تشمل ..... ( نهر النيل - المياه الجوفية - الأمطار - كل ما سبق )
- ٥- من الموارد الطبيعية ..... ( المباني - المحيطات - الطرق - السدود )
- ٦- وسيلة لزيادة الكفاءة البشرية ..... ( الزراعة - التجارة - التعليم - الصناعة )
- ٧- من نماذج الأنشطة البشرية ..... ( المحيطات - الأنهار - البحار - السياحة )
- ٨- يستخدم المنجنيز في صناعة ..... ( الأسمدة - المبيدات الحشرية - الصلب - الآلات )
- ٩- يصنع سمامد السوبر فوسفات في مصنع ..... ( أبو النجا - أبو زعبل - أبو بجمه - أبو طرطور )
- ١٠- يتم استخراجها من منطقة أم بجمه ..... ( المنجنيز - الفوسفات - الحديد - الذهب )
- ١١- يوجد الفحم في مصر في منطقة ..... ( أبو زينة - أم بجمه - أبو ماضي - مغارة )
- ١٢- من أمثلة الطاقة المتجددة ..... ( بترول - رياح - فحم - غاز طبيعي )
- ١٣- تمثل محطات الكهرباء المائية ..... % من إجمالي الطاقة الكهربائية ( ١٠ - ١٥ - ١٦ - ١٨ )
- ١٤- من مشتقات البترول ..... ( الفحم - الأمواج - المازوت - الرياح )

س ١٩ : ماذا يحدث إذا :

- ١- قام الإنسان بإلقاء مخلفات المصانع في نهر النيل .
- ٢- زاد استخدام طاقة الرياح والطاقة الشمسية كبديل للفحم والبترول .
- ٣- قلت نسبة الأمية في مصر .

لمزيد من المذكرات والكتب زر موقعنا المدرس بوك ( [www.modrsbook.com](http://www.modrsbook.com) )

- ٤- لم توجد المياه المالحة فى مصر .
- ٥- تم الاعتماد على الطاقة الشمسية فى حياتنا اليومية .
- ٦- لم يتم اكتشاف خام الحديد فى مصر .
- ٧- قامت مصر بتعمير شبه جزيرة سيناء .
- ٨- لم نسرف فى استخدام الأسمدة والمبيدات الزراعية .
- ٩- تم ردم نهر النيل .

عبدالرازق العربى ٠١٠٠٨١٩٧٠٥٨  
من : الاجابات بمصادرها الغذائية :

٥

- ١- يعتبر ..... أحد أهم مصادر المياه العذبة فى مصر .
- ٢- الموارد الطبيعية تشمل مصادر المياه و ..... و ..... و .....
- ٣- تمتاز الطاقة المتجددة بأنها طاقة ..... غير ..... للبيئة .
- ٤- الإسراف فى استخدام المياه إهدار لـ .....
- ٥- التلقيم وسيلة لزيادة .....
- ٦- المصدر الرئيسى للمياه فى الصحراء الغربية .....
- ٧- الجبل من الموارد .....
- ٨- السد العالى حمى مصر من أخطار ..... و .....
- ٩- من محطات الكهرباء الحرارية محطة ..... بالإسكندرية .
- ١٠- السياحة نموذج من الأنشطة .....
- ١١- مصادر المياه العذبة فى مصر تشمل ..... و ..... و .....
- ١٢- يقتصر وجود الأمطار الشتوية فى مصر على الساحل .....
- ١٣- تنتج منطقة سيناء نحو ..... من إنتاج الغاز الطبيعى .
- ١٤- بدء استخدام الكهرباء فى مصر فى أوائل القرن .....
- ١٥- يستخرج من سواحل البحر الأحمر بين سفاجا و القصير .....
- ١٦- التلوث يعنى .....
- ١٧- أول من نقب عن الذهب كان .....
- ١٨- أكثر مصادر الطاقة غير المتجددة تلويثا للبيئة هو ..... بسبب انبعاث غاز .....
- ١٩- تتمثل أهمية الموارد الطبيعية فى توفير ..... لزراعة المحاصيل الغذائية .
- ٢٠- النشاط الصناعى يتطلب وجود مصادر للطاقة مثل .....
- ٢١- تتمثل أهمية المياه العذبة فى مصر بأنها مصدر رئيسى لـ ..... ولأغراض .....
- ٢٢- من أهمية المياه المالحة أنه يستخرج من قاعها بالبحار ..... و .....
- ٢٣- يعتبر ..... أساس الصناعة الحديثة .
- ٢٤- يعتمد مصنع حلوان للحديد و الصلب على حديد .....
- ٢٥- يستخرج المنجنيز من شبه جزيرة سيناء من منطقة .....
- ٢٦- نقب قدماء المصريين عن الذهب فى .....
- ٢٧- مناطق إنتاج البترول فى مصر هى : ..... و ..... و ..... و ..... و .....
- ٢٨- يوجد الحديد فى مصر فى ..... مناطق .
- ٢٩- يدخل الفوسفات فى صناعة ..... و .....

لمزيد من المذكرات والكتب زر موقعنا المدرس بوك ( [www.modrsbook.com](http://www.modrsbook.com) )

- ٣٠- أقل مصادر الطاقة غير المتجددة أهمية هو -----  
 ٣١- المنجنيز عامل أساسى فى صناعة -----  
 ٣٢- يستخرج الحديد فى مصر من شرق ----- و الصحراء -----  
 ٣٣- تعتمد الزراعة فى مصر على سماد ----- الذى ينتجه مصنع -----  
 ٣٤- يستخدم الذهب فى صناعة ----- و بعض أنواع من -----  
 ٣٥- يستخدم فحم ----- فى صناعة الصلب و يستورد من الخارج .  
 ٣٦- يوجد الفحم فى مصر بمنطقة -----  
 ٣٧- من أمثلة الطاقة المتجددة ----- ، ----- ، -----  
 ٣٨- من أهم حقول الغاز الطبيعى فى شمال الدلتا حقل -----  
 ٣٩- من أمثلة الطاقة غير المتجددة ----- ، ----- ، -----  
 ٤٠- من المصادر الرئيسية للطاقة والدخل القومى فى مصر -----  
 ٤١- تبلغ نسبة إنتاج منطقة الصحراء الغربية من الغاز نحو -----  
 ٤٢- من محطات الكهرباء المائية فى مصر محطة كهرباء قناطر ----- وقناطر -----

س ٢١: ضع علامة (✓) أمام الجمل الصحيحة و علامة (×) أمام العبارة الخاطئة :

- ١- تتوافر بمصر الغابات الطبيعية . ( )
- ٢- قيام النشاط الصناعى يتطلب وجود مصادر للطاقة مثل البترول . ( )
- ٣- ينتج عن النشاط البشرى فى الصناعة نمو المدن وتزايد وسائل المواصلات ( )
- ٤- يعتبر نهر النيل وسيلة نقل مهمة ورخيصة . ( )
- ٥- تعتمد محافظة أسوان على الرى من نهر النيل فى الزراعة . ( )
- ٦- المياه المالحة مصدر رئيسى لإنتاج الأسماك فى مصر . ( )
- ٧- تضم البيئة المحيطة بالإنسان نوعين من الموارد طبيعية و بشرية . ( )
- ٨- أسماك البحر المتوسط و البحر الأحمر و نهر النيل تعتبر موارد طبيعية . ( )
- ٩- يؤدى حسن استثمار الموارد الطبيعية إلى التقدم الإقتصادى . ( )
- ١٠- من مصادر المياه المالحة البحيرات الساحلية الشمالية بمصر . ( )
- ١١- نهر النيل مصدر مهم للثروة السمكية . ( )
- ١٢- تشمل الموارد الطبيعية فى مصر الطرق والمواصلات . ( )
- ١٣- السد العالى حوى مصر من أخطار الفيضان والجفاف . ( )
- ١٤- تمتلك مصر سواحل محدودة على البحرين الأحمر والمتوسط . ( )
- ١٥- تمثل المراعى وأسماك نهر النيل موارد طبيعية ( )
- ١٦- ما يقوم به الإنسان من أنشطة متنوعة يعرف بالموارد الطبيعية . ( )
- ١٧- يستخرج من المياه المالحة العديد من الأملاح و منها ملح الطعام . ( )
- ١٨- يستخرج الحديد فى مصر من أربع مناطق رئيسية ( )
- ١٩- من مناطق استخراج الفوسفات بمصر وادى النيل عند السباعية . ( )
- ٢٠- يستخدم المنجنيز فى صناعة الحديد و الصلب . ( )
- ٢١- يوجد الذهب بمصر فى الصحراء الغربية فى جبال البحر الأحمر ( )
- ٢٢- يوجد الحديد فى مصر فى منطقة أم بجمة . ( )
- ٢٣- يستخدم الفوسفات فى صناعة الحلى . ( )

لمزيد من المذكرات والكتب زر موقعنا المدرس بوك ( [www.modrsbook.com](http://www.modrsbook.com) )

- ٢٤- تختلف أهمية المعادن حسب كمية وجودها في الطبيعة ( )
- ٢٥- يعتمد مصنع الحديد و الصلب في حلوان على حديد شرق أسوان . ( )
- ٢٦- بلاعيم البحرى من أكبر الحقول البحرية بخليج السويس لإستخراج البترول ( )
- ٢٧- يستخرج الحديد من ثلاث مناطق رئيسية في مصر . ( )
- ٢٨- يستخدم الفوسفات في صناعة الأسمدة و المبيدات . ( )
- ٢٩- أول من نقب عن الذهب في مصر كان الرومان . ( )
- ٣٠- الفحم خفيف الوزن يسهل نقله لمسافات طويلة . ( )
- ٣١- من أمثلة الطاقة غير المتجددة الغاز الطبيعي . ( )
- ٣٢- الأطراف الشمالية في مصر تسقط عليها الأمطار الشتوية ( )
- ٣٣- منطقة البحر المتوسط تنتج ٦٥٪ من إنتاج الغاز الطبيعي في مصر . ( )
- ٣٤- بدأ استخدام الكهرباء في مصر في أوائل القرن الماضى . ( )
- ٣٥- السد العالى أعظم مشروع هندسى فى القرن الماضى . ( )
- ٣٦- من أمثلة الطاقة المتجددة طاقة الرياح . ( )
- ٣٧- عند تكرير البترول تخرج منه مشتقات منها المازوت والغاز . ( )
- ٣٨- استخدمت مصر الكهرباء فى الصناعة منذ عام ١٩٣٠م ( )
- ٣٩- من محطات الكهرباء المائية محطة شمال القاهرة . ( )
- ٤٠- تعد مصر أول دول الوطن العربى إنتاجا للكهرباء المائية . ( )
- ٤١- يعتبر حقلى أبى قير فى شمال الدلتا أحد حقول الغاز الطبيعى الرئيسية . ( )
- ٤٢- الطاقة الشمسية طاقة متجددة . ( )
- ٤٣- الغاز الطبيعى من مشتقات البترول . ( )
- ٤٤- البترول والفحم من مصادر الطاقة غير المتجددة . ( )
- ٤٥- من أمثلة الطاقة المتجددة الأمواج . ( )

س٢٢: بم تفسر :

- ١- الحديد أساس الصناعة الحديثة .
- ٢- يعد الفوسفات من أهم المعادن فى مصر .
- ٣- أهمية معدن المنجنيز .
- ٤- الفحم طاقة غير نظيفة .
- ٥- للبترول أهمية كبيرة عند تكريره .
- ٦- ضرورة الحفاظ على المياه المالحة فى مصر .
- ٧- عدم توافر غابات طبيعية فى مصر .
- ٨- تلوث نهر النيل فى مصر .
- ٩- تعتبر السدود و القناطر أحد مصادر الطاقة فى مصر .
- ١٠- الفحم أقل أهمية اقتصادية من البترول والغاز الطبيعى.
- ١١- تلوث التربة و المحاصيل التى تنتجها .
- ١٢- أهمية السدود والقناطر فى إنتاج الطاقة .
- ١٣- استخدام الطاقة المتجددة فى تسخين المياه والأغراض المنزلية .
- ١٤- أهمية المياه العذبة فى مصر .



١٥ - تسمية الموارد الطبيعية بهذا الاسم .

١٦ - أهمية الطاقة للصناعة .

١٧ - اهتمام قدماء المصريين بالذهب .

س٢٣ : ما النتائج المترتبة على :

١ - وجود الفوسفات في مصر بكميات كبيرة .

٢ - وجود الحديد في مصر .

٣ - تنقيب قدماء المصريين عن الذهب .

٤ - التلوث .

٥ - اكتشاف الغاز الطبيعي بكميات كبيرة في مصر .

٦ - التوسع في استخدام الطاقة المتجددة .

٧ - القيام بعمليات تكرير البترول .

٨

الوحدة الثانية الدرس الأول : الإنتاج الزراعي والسمكي والرعى

• أولا الإنتاج الزراعي :

- مساحة الأراضي الزراعية قليلة بالنسبة لمساحة مصر وتمثل نحو ٣.٥ ٪ من مساحة مصر أى حوالى ٨.٥ مليون فدان .

- ١) يعمل بالزراعة حوالى ٣٠ ٪ من إجمالي قوة العمل في مصر .
- ٢) تساهم الزراعة بحوالى ٢٠ ٪ من جملة الصادرات السلعية في مصر .
- ٣) تساعد على زيادة الدخل القومي عن طريق تصدير الفائض .

- ١- زيادة المساحات المنزرعة بنحو ٣.٦ مليون فدان .
- ٢- زيادة محصولية الفدان .
- ٣- تحسين مستوى معيشة الفلاح .

• أهم المشروعات الزراعية :

- ١- مشروع ترعة السلام: توصل المياه من فرع دمياط إلى شمال سيناء لزراعة الأراضي .
- ٢- مشروع توشكى : توصل مياه نهر النيل من بحيرة ناصر لرى مساحات واسعة وزراعتها على مراحل فى قناة طولها حوالى ٥١ كم ، ويزرع بها نباتات طبية ونباتات زينة ومحاصيل أخرى وتم وضع حجر الأساس فى ٩ يناير عام ١٩٩٧ م .
- ٣- مشروع شرق العوينات : تعتمد الزراعة فيه على المياه الجوفية ، ويتم استصلاح حوالى ٢٥٥ ألف فدان ويزرع فيه قمح وشعير وفاكهة ونباتات طبية

- الاتحاد الأوروبى : هو اتحاد سياسى واقتصادى للدول الأوروبية يضم ٢٧ دولة ، ويستورد نحو ٤٢ ٪ من صادرات مصر الزراعية .

مفاهيم

- التنمية الزراعية : زيادة الإنتاج الزراعى عن طريق التوسع الأفقى والرأسى .
- التوسع الأفقى : زيادة مساحة الأراضي الزراعية عن طريق استصلاح المزيد من منها .
- التوسع الرأسى : زيادة إنتاج الفدان باستخدام الوسائل العلمية فى الزراعة .

• ثانيا الإنتاج السمكى : حجم المصايد حوالى ١٣ مليون فدان وتتمثل فى :

لمزيد من المذكرات والكتب زر موقعنا المدرس بوك ( [www.modrsbook.com](http://www.modrsbook.com) )

١- مصايد المياه المالحة : وتبلغ نسبة إنتاج السمك بها حوالى ١٩ ٪ .

٢- مصايد المياه العذبة : وتبلغ نسبة إنتاج السمك بها حوالى ٨١ ٪ .

### أسباب نقص الإنتاج السمكى فى مصر

- (١) تلوث سواحل البحار والبحيرات .
- (٢) ردم البحيرات والبناء عليها
- (٣) استخدام الوسائل البدائية للصيد .
- (٤) صعوبة الصيد فى البحر الأحمر لكثرة الشعب المرجانية وقلة الموانئ عليه .

- (١) تقليل ما تستورده مصر من اللحوم والأسماك .
- (٢) زيادة دخل الصيادين ورفع مستوى معيشتهم .
- (٣) زيادة إنتاج السمك من البحار والبحيرات ونهر النيل والمزارع السمكية .

### أهداف تنمية الثروة السمكية

- **ثالثا الإنتاج الرعوى:** المراعى نادرة ومنخفضة القيمة الاقتصادية بسبب المناخ الجاف وشبه الجاف وتقتصر تربية الحيوان فى المزارع على البرسيم والمحاصيل الأخرى .
- تتعرض البحيرات الطبيعية فى مصر للتلوث والردم للبناء عليها .
- تشمل الصادرات بالترتيب القطن الخام ثم الأرز ثم البطاطس ثم البرتقال .
- البحر المتوسط أكثر بحار العالم تلوثا لكثرة الملاحة ومخلفات السفن العملاقة
- يقتصر وجود المراعى الطبيعية فى مصر على شمال سيناء والساحل الشمالى والواحات

### الدرس الثانى : الصناعة

- الصناعة : إجراء تحويلات على الموارد بما يجعلها أقدر على إشباع حاجات الإنسان .
- تنقسم الصناعة الحديثة إلى صناعات استخراجية وصناعات تحويلية .
- ١- صناعة استخراجية : استخراج المواد الخام من الطبيعة كالتعدين واستخراج البترول .
- ٢- صناعة تحويلية : تحويل المواد الخام إلى صناعات متنوعة باستخدام الآلات .

### مقومات الإنتاج الصناعى فى مصر

#### طبيعية

- (١) وفرة المواد الخام .
- (٢) وفرة مصادر الطاقة مثل البترول والغاز الطبيعى .
- (٣) وفرة الأيدى العاملة الرخيصة .
- (٤) وفرة رأس المال المحلى والأجنبى .
- (٥) وفرة وسائل النقل والطرق .
- (٦) وفرة الأسواق الداخلية والخارجية .

### • أهم الصناعات بمصر :

- ١- الغزل والنسيج .
  - ٢- صناعة المعادن الأساسية .
  - ٣- الأثاث .
  - ٤- الأغذية المحفوظة
  - ٥- المشروبات .
  - ٦- الصناعات الكيماوية .
  - ٧- الصناعات التعدينية .
- محمد علي أسس صناعة الغزل والنسيج وطورها طلعت حرب مؤسس بنك مصر عام ١٩٢٠م واهم مراكزها (المحلة الكبرى- كفر الدوار- شبرا الخيمة) .
- صناعة الأسمدة تعتمد على الفوسفات المحلى وهى إحدى الصناعات الكيماوية .

لمزيد من المذكرات والكتب زر موقعنا المدرس بوك ( [www.modrsbook.com](http://www.modrsbook.com) )

- تعتبر القاهرة ودمياط من أهم مراكز صناعة الأثاث في مصر .  
- صناعة الأسمنت تساهم بنصيب كبير في الصادرات المصرية ولكنها ملوثة للبيئة .

أهمية الصناعة

- ١- يعمل بالصناعة نحو ١٥٪ من الأيدي العاملة في مصر .
- ٢- تساهم الصناعة بحوالي ١٧.٢٪ من الاقتصاد المصري عام ٢٠٠٧م
- ٣- النمو الصناعي يوفر الكثير من فرص العمل للقضاء على البطالة.
- ٤- تعمل رفع دخل الفرد مما يؤدي إلى رفع مستوى المعيشة .
- ٥- تساهم في تلبية حاجات السكان ورفع قيمة الصادرات .

تسبب الصناعة تلوث الهواء بسبب أدخنة المصانع وتلوث المياه بسبب إلقاء مخلفات المصانع فيها وظهر الآن ما يعرف بالصناعة النظيفة نتيجة التقدم العلمي والتكنولوجي .  
- زيادة النمو الصناعي يؤدي إلى نمو المدن وزيادة الهجرة إليها من الريف فيزداد تدهور مرافق المدن .

١٠

عبدالرازق العربي ٠١٠٠٨١٩٧٠٥٨

### الدرس الثالث : النقل والمواصلات والتجارة

\* أولا النقل : أسباب وفرة المواصلات في مصر :

- ١) موقع مصر المتميز بين قارتي آسيا وأفريقيا وعلى مقربة من أوروبا .
- ٢) امتداد النيل من الجنوب إلى الشمال لربط سكان الوادي والدلتا .
- ٣) اعتدال مناخ مصر طوال العام .
- ٤) استواء معظم سطح مصر لا يعوق إنشاء الطرق والسكك الحديدية .
- ٥) تطل مصر على بحرين من أهم بحار العالم هما البحر المتوسط والبحر الأحمر ويربط بينهما قناة السويس .

\* أنواع النقل : أ) النقل البري : [ السكك الحديدية / الطرق ] .

- ١- السكك الحديدية : مصر ثاني دول العالم استخداما للسكك الحديدية بعد إنجلترا ، حيث أنشئ أول خط حديدي عام ١٨٥٦م بطول ٢٠٩ كم ليربط القاهرة بالإسكندرية
- ٢- مترو الأنفاق : مصر أول دولة عربية وأفريقية تستخدم مترو الأنفاق الذي يربط بين محافظات القاهرة الكبرى ( القاهرة والجيزة والقليوبية ) .
- ٣- الطرق البرية : توجد في مصر طرق ذات مواصفات دولية مثل طريق القاهرة إسكندرية وطريق الصعيد الصحراوي ويبلغ طولها ١٠٠٠ كم .
- نقل ومواصلات : الانتقال من مكان لآخر بواسطة وسائل النقل المائية والبرية والجوية ويستخدّم لنقل الأفراد والسلع .
- اتصالات : اتصال الأفراد دون انتقال عبر الهاتف والإنترنت .

ب) النقل المائي : [ النقل النهري - النقل البحري ]

- ١- النقل النهري : أرخص أنواع النقل ويستخدم لنقل البضائع رخيصة الثمن كبيرة الحجم مثل الجير والفحم والرمل والأسمنت .

لمزيد من المذكرات والكتب زر موقعنا المدرس بوك ( [www.modrsbook.com](http://www.modrsbook.com) )

٢- النقل البحري : عن طريق البحر الأحمر والمتوسط وقناة السويس وعن طريق موانئ مصر ( عملية تصدير واستيراد السلع المختلفة )

تجاري	٤٠ ميناء	عدد الموانئ في مصر	تعديني	٦ موانئ
بترول	١٠ موانئ		سياحي	٦ موانئ

- الإسكندرية أكثر موانئ مصر أهمية لأنه يقع في مواجهة أكثر مناطق العالم تقدماً في أوروبا .
- أهمية ميناء دمياط : لتخفيف الضغط على ميناء الإسكندرية .
- أهمية ميناء سفاجا : تصدير بعض السلع والخامات مثل الفوسفات .
- أهمية قناة السويس : ممر ملاحي يربط بين البحر الأحمر والبحر المتوسط لنقل بترول الخليج والمنتجات الأخرى إلى العالم كله .
- تقل أهمية الموانئ على ساحل البحر الأحمر بسبب اقتراب الجبال من ساحل البحر ووجود الشعاب المرجانية .

- تعوق السدود والقناطر الملاحة النهرية على طول مجرى نهر النيل .  
\* النقل الجوي: أسرع أنواع النقل ويتميز بالسرعة والانتشار وتخطى المرتفعات والبحار ومن عيوبه ارتفاع التكاليف وتباعد المطارات ، تمتلك مصر ٣٠ مطاراً .

\* التجارة : عملية البيع والشراء وانتقال السلع والخدمات من مكان لآخر . وتنقسم إلى (١١)

١- تجارة داخلية : انتقال السلع والخدمات داخل حدود الدولة .

٢- تجارة خارجية: انتقال السلع والخدمات خارج حدود الدولة .

\* أهداف التجارة الداخلية :

١- نقل المواد الخام من مناطق إنتاجها إلى مناطق تصنيعها .

٢- نقل المنتجات من أماكن التصنيع إلى أماكن الاستهلاك .

- تعمل مصر على تنمية التجارة الداخلية عن طريق النقل ومد الطرق والدعاية للمنتجات .

\* أهداف التجارة الخارجية :

١- تصدير الفائض من المنتجات إلى الدول الأخرى .

٢- توفير النقد الأجنبي .

٣- توفير الكثير من فرص العمل عن طريق التصدير .

٤- استيراد المواد التي يحتاجها السكان ولا تصنع محلياً .

\* جهود مصر في تنمية التجارة الخارجية :

١- تحسين طرق النقل والمواصلات .

٢- تحسين الصناعة والمنتجات المصرية .

٣- الدعاية الكافية للمنتجات المصرية .

٤- عقد الاتفاقيات مع الدول الأخرى .

٥- المشاركة في عضوية التجمعات الاقتصادية مثل تجمع الكوميسا .

- اتحاد الكوميسا : اتحاد اقتصادي يضم دول شرق وجنوب أفريقيا وعدد الدول به ٢٠ دولة أفريقية ومنها مصر .

- تعتبر الولايات المتحدة الأمريكية ثاني أكبر شريك تجاري لمصر بعد الاتحاد الأوروبي .

س١: اذكر أهمية الزراعة في مصر .

لمزيد من المذكرات والكتب زر موقعنا المدرس بوك ( [www.modrsbook.com](http://www.modrsbook.com) )

- س٢: اذكر أهداف التنمية الزراعية .  
 س٣: اذكر بعض مشروعات التنمية الزراعية فى مصر ؟  
 س٤: اذكر مصايد الأسماك الرئيسية فى مصر .  
 س٥: اذكر أسباب نقص الإنتاج السمكى فى مصر .  
 س٦: اذكر أهداف تنمية الثروة السمكية .  
 س٧: تكلم عن الإنتاج الرعوى فى مصر .

- س٨: اذكر أنواع الصناعة الحديثة .  
 س٩: اذكر عوامل قيام الصناعة فى مصر .  
 س١٠: اذكر أهم الصناعات المصرية .  
 س١١: اذكر أهمية الصناعة فى مصر .

- س١٢: لماذا تتوافر وسائل النقل المختلفة فى مصر ؟  
 س١٣: قارن بين التجارة الداخلية والتجارة الخارجية ؟  
 س١٤: اذكر أهداف التجارة الداخلية .  
 س١٥: اذكر أهداف التجارة الخارجية .  
 س١٦: اذكر جهود مصر فى تنمية التجارة الخارجية .  
 س١٧: أكمل العبارات بالكلمات المناسبة :

١٢

- ١- يشمل النقل البرى \_\_\_\_\_ و \_\_\_\_\_
- ٢- أرخص أنواع النقل \_\_\_\_\_
- ٣- تبلغ نسبة الأسماك من المياه العذبة \_\_\_\_\_
- ٤- أكبر بحار العالم تلوثا \_\_\_\_\_
- ٥- ينقسم النقل إلى نقل \_\_\_\_\_ و نقل \_\_\_\_\_ و نقل \_\_\_\_\_
- ٦- يتميز النقل الجوى بـ \_\_\_\_\_ و \_\_\_\_\_
- ٧- يعوق الملاحة النهرية فى مصر \_\_\_\_\_
- ٨- تنقسم الصناعة إلى \_\_\_\_\_ و \_\_\_\_\_
- ٩- تبلغ مساحة الأراضى الزراعية فى مصر نحو \_\_\_\_\_
- ١٠- يتم تزويد مشروع توشكى بالمياه من بحيرة \_\_\_\_\_
- ١١- يحتل محصول \_\_\_\_\_ المركز الثالث ، أما \_\_\_\_\_ المركز الرابع فى صادرات مصر .
- ١٢- يعتمد الرى فى مصر على \_\_\_\_\_ كمصدر رئيسى للمياه .
- ١٣- تتعرض البحيرات الطبيعية فى مصر لـ \_\_\_\_\_ و \_\_\_\_\_
- ١٤- يعتمد مشروع شرق العوينات على \_\_\_\_\_ كمصدر رئيسى للمياه .
- ١٥- يحتل محصولا \_\_\_\_\_ و \_\_\_\_\_ المركز الأول والثانى فى الصادرات المصرية
- ١٦- مصادر الثروة السمكية فى مصر هى \_\_\_\_\_ و \_\_\_\_\_ و \_\_\_\_\_
- ١٧- يعمل بالزراعة فى مصر نحو \_\_\_\_\_ % من إجمالى قوة العمل .
- ١٨- يحتل البرتقال المركز \_\_\_\_\_ فى الصادرات المصرية .
- ١٩- من أمثلة مشروعات التنمية الزراعية فى مصر مشروع \_\_\_\_\_ و \_\_\_\_\_ و \_\_\_\_\_

- ٢٠- زيادة مساحة الأراضي المزروعة يسمى بالتوسع .....
- ٢١- تم وضع حجر الأساس لمشروع توشكى فى ٩ يناير عام ..... م
- ٢٢- يتم حاليا مد مياه النيل إلى شمال سيناء عن طريق ترعة .....
- ٢٣- البضائع رخيصة الثمن و كبيرة الحجم يتم نقلها عن طريق النقل .....
- ٢٤- يرجع توافر وسائل النقل البرى فى مصر إلى .....
- ٢٥- تقتصر تربية الحيوان فى المزارع على ..... وغيره من المحاصيل .
- ٢٦- صناعة الأسمدة التى تعتمد عليها الزراعة إحدى الصناعات .....
- ٢٧- يجرى نهر النيل فى مصر من ..... إلى .....
- ٢٨- من أهم مراكز صناعة الأثاث فى مصر ..... و .....
- ٢٩- من مقومات الصناعة ..... و ..... و .....
- ٣٠- تسبب الصناعة تلوث ..... و تلوث .....
- ٣١- أهم مراكز صناعة الغزل و النسيج فى مصر ..... و ..... و .....
- ٣٢- استخراج المواد الخام من الطبيعة تسمى صناعة .....
- ٣٣- يعتبر ..... و ..... من الصناعات الاستخراجية .
- ٣٤- من مصادر الطاقة المستخدمة فى مصر ..... و .....
- ٣٥- بدأت صناعة الغزل و النسيج فى مصر على يد ..... و تطورت على يد .....
- ٣٦- يعمل بالصناعة فى مصر نحو ..... % من الأيدى العاملة فى مصر .
- ٣٧- تتركز صناعة الحديد و الصلب فى مصر فى محافظتى ..... و .....
- ٣٨- المواد الخام اللازمة للصناعة قد تكون ..... و .....
- ٣٩- زيادة النمو الصناعى تؤدى إلى نمو المدن و تدهور البيئة .....
- ٤٠- تساهم الصناعة بنحو ..... % من الاقتصاد المصرى .
- ٤١- يتصل البحر الأحمر بالبحر المتوسط عن طريق .....
- ٤٢- مصر تطل على بحرين من أهم بحار العالم هما ..... و .....
- ٤٣- تقع شبه جزيرة سيناء فى قارة ..... و تمثل ..... % من مساحة مصر .
- ٤٤- أنشئ أول خط سكك حديد فى مصر عام ..... م .
- ٤٥- الكوميسا هو اتحاد اقتصادى يضم دول .....
- ٤٦- يعتبر ميناء ..... أهم موانى مصر على البحر المتوسط .
- ٤٧- تقل أهمية الموانئ الموجودة على البحر ..... لوجود الشعب المرجانية و .....
- ٤٨- مصر ذات موقع متميز بين قارتى ..... و .....
- ٤٩- مصر ثانى دولة فى العالم استخداما للسكك الحديدية بعد .....
- ٥٠- أنشئ أول خط سكة حديد فى مصر للربط بين مديتى ..... و .....
- ٥١- تم إنشاء ميناء ..... لتخفيف الضغط عن ميناء الإسكندرية .
- ٥٣- يعتبر ..... أهم شريك تجارى لمصر ويعتبر ..... ثانى أكبر شريك تجارى

س١٨: ضع علامة (✓) امام العبارة الصحيحة و علامة (×) أمام العبارة الخاطئة :

- ١- يأتى القطن الخام فى المركز الثانى لصادرات مصر . ( )
- ٢- مشروع شرق العوينات يعتمد على المياه الجوفية فى الزراعة ( )
- ٣- من مصائد المياه المالحة فى مصر بحيرة ناصر ( )

لمزيد من المذكرات والكتب زر موقعنا المدرس بوك ( [www.modrsbook.com](http://www.modrsbook.com) )

- ٤- تقتصر المراعى فى مصر على شمال سيناء فقط . ( )
- ٥- يعمل بالزراعة فى مصر نحو ٥٠٪ من القوى العاملة . ( )
- ٦- الاتحاد الأوروبى اكبر مستورد للمنتجات الزراعية المصرية ( )
- ٧- نهر النيل هو المصدر الوحيد للثروة السمكية ( )
- ٨- تمتلك مصر ٣٠ مطارا تصل خطوطها إلى معظم مدن العالم . ( )
- ٩- إنتاج اللحوم فى مصر يكفى حاجة السكان ( )
- ١٠- تعادل الاراضى الزراعية بمصر نحو ١٠٪ من مساحة مصر ( )
- ١١- يحتل الأرز المركز الأول فى الصادرات المصرية ( )
- ١٢- يتم تزويد مشروع توشكى بالمياه من بحيرة قارون ( )
- ١٣- يعتمد مشروع شرق العوينات على مياه ترعة السلام ( )
- ١٤- إنتاج الأسماك من المياه العذبة أكثر من الإنتاج من المياه المالحة ( )
- ١٥- يبلغ حجم المصايد السمكية فى مصر نحو ١٥ مليون فدان ( )
- ١٦- تنمية الثروة السمكية تزيد من دخل الأفراد والصيادين ( )
- ١٧- للمراعى فى مصر قيمة اقتصادية كبيرة ( )
- ١٨- اتحاد الكوميسا اتحاد اقتصادى يضم دول جنوب شرق آسيا ( )
- ١٩- توافر الخامات من المقومات الطبيعية لقيام الصناعة ( )
- ٢٠- بدأت صناعة الغزل و النسيج فى مصر على يد الخديو إسماعيل ( )
- ٢١- صناعة الأسمدة إحدى الصناعات الكيميائية ( )
- ٢٢- صناعة الحديد و الصلب من الصناعات الاستخراجية ( )
- ٢٣- تتوافر فى مصر مصادر الطاقة اللازمة للصناعة ( )
- ٢٤- تساهم الصناعة فى حل مشكلة البطالة فى مصر ( )
- ٢٥- التعدين والبتروىل من الصناعات التحويلية ( )
- ٢٦- مركز صناعة الألومنيوم فى مصر مدينة نجع حمادى ( )
- ٢٧- الموانى المصرية الواقعة على البحر الأحمر كبيرة الأهمية ( )
- ٢٨- أنشأت طلع حرب بنك مصر عام ١٩٢٥م ( )
- ٢٩- مدينة دمياط من أهم مراكز صناعة الأثاث فى مصر ( )
- ٣٠- تسبب الصناعة فوائد كثيرة بالنسبة للبيئة ( )
- ٣١- تقع مصر بين قارتى أفريقيا و أوروبا . ( )
- ٣٢- تضاريس سطح مصر تعوق إنشاء الطرق و السكك الحديدية ( )
- ٣٣- نهر النيل يجرى من الشمال إلى الجنوب ليصب فى البحر الأحمر ( )
- ٣٤- مصر ثأتى دولة فى العالم استخداما للسكك الحديدية ( )
- ٣٥- أرخص وسائل النقل هو النقل النهري . ( )
- ٣٦- يقتصر النقل البرى على الطرق المرصوفة ( )
- ٣٧- قناة السويس توفر تكاليف الرحلة بين شرق العالم وغربه . ( )
- ٣٨- تسير خطوط السكك الحديدية عمودية على اتجاه النيل ( )
- ٣٩- تقع مصر على مقربه من قارة أمريكا الشمالية . ( )
- ٤٠- أنشأ أول خط سكة حديد فى مصر عام ١٩٥٦م ( )

٤١- أغلى وسائل النقل بمصر النقل الجوي ( )

٤٢- ميناء الإسكندرية أكثر الموانئ المصرية أهمية ( )

س١٩: اختر الإجابة الصحيحة مما بين القوسين :

- ١- أسس طلعت حرب بنك مصر في عام..... م ( ١٩١٩ - ١٩٢٠ - ١٩٢١ - ١٩٢٢ )
- ٢- أشهر مراكز صناعة الغزل والنسيج في مدينة ..... ( أسوان - قنا - المحلة الكبرى - طنطا )
- ٣- تساهم الصناعة بنحو ..... % من الاقتصاد المصري ( ٣٠.٢ - ٢٥.٢ - ١٧.٢ - ١١.٢ )
- ٤- الخامات اللازمة للصناعة خامات ..... ( معدنية- حيوانية- زراعية - كل ما سبق )
- ٥- تتركز صناعة الألومنيوم في مدينة..... (القاهرة- حلوان- أسيوط- نجع حمادى)
- ٦- من الصناعات الاستخراجية ..... ( الآلات - الأثاث - المشروبات - التعدين )
- ٧- تعتمد صناعة الأسمدة على معدن..... ( المنجنيز- الفوسفات- الحديد- النحاس )
- ٨- يبلغ عدد الموانئ البحرية في مصر ..... ميناء ( ٣٧ - ٤٧ - ٥٧ - ٦٧ )
- ٩- تمتلك مصر نحو ..... مطارا ( ٢٠ - ٣٠ - ٤٠ - ٥٠ )
- ١٠- يوجد في مصر عدد ..... موانئ تعدينية ( ٤ - ٦ - ٨ - ١٠ )

س٢٠: ما النتائج المترتبة على :

- ١- تلوث البحيرات الطبيعية في مصر .
- ٢- حفر ترعة السلام .
- ٣- إقامة مشروع توشكى و شرق العوينات .
- ٤- بناء المصانع وسط المساكن
- ٥- كثرة المطارات في مصر .
- ٦- تطوير وسائل النقل البرى .
- ٧- توافر الأسواق الداخلية و الخارجية فى الصناعة .
- ١- اتحاد اقتصادى يضم دول شرق وجنوب أفريقيا ومنها مصر .
- ٢- استخراج المواد الخام من الطبيعة .
- ٣- ميناء أقيم حديثا بمصر لتخفيف الضغط عن ميناء الإسكندرية .
- ٤- أرخص وسائل النقل فى مصر .
- ٥- تبادل المنتجات خارج حدود الدولة .
- ٦- صناعة بحلوان ملوثة للبيئة
- ٧- مشروع يربط بين محافظات القاهرة الكبرى .
- ٨- انتقال السلع داخل حدود الدولة .
- ٩- ثانى أكبر شريك تجارى لمصر
- ١٠- تسبب إعاقة للملاحة النهرية
- ١١- ترعة تمد مياه النيل إلى شمال سيناء.
- ١٢- زيادة مساحة الأراضى الزراعية .
- ١٣- زيادة الإنتاج عن طريق التوسع الأفقى والرأسى .
- ١٤- بحر يصعب الصيد فيه لكثرة الشعاب المرجانية .
- ١٥- حرفة يعمل بها نحو ٣٠% من إجمالى قوة العمل فى مصر .
- ١٦- زيادة إنتاج القدان باستخدام الأساليب العلمية فى الزراعة .

س٢١: اكتب المفهوم الدال على كل عبارة:

لمزيد من المذكرات والكتب زر موقعنا المدرس بوك ( [www.modrsbook.com](http://www.modrsbook.com) )



- ١٧- مشروع أقامته الدولة فى الصحراء الغربية و وضع حجر أساسه عام ١٩٩٧
- ١٨- مشروع يهدف إلى استصلاح نحو ٢٥٥ ألف فدان اعتمادا على المياه الجوفية .
- ١٩- إجراء تحويلات على الموارد بما يجعلها أقدر على إشباع حاجات الإنسان .
- ٢٠- صناعة مهمة بدأت فى مصر على يد محمد على وتطورت على يد طلعت حرب
- ٢١- نوع من أنواع النقل يتميز بالسرعة و الانتشار و تخطى المرتفعات و البحار .

- ١- إقامة مشروع شرق العوينات .
- ٣- أهمية الزراعة فى مصر .
- ٥- تنوع وسائل النقل فى مصر .
- ٧- أهمية مترو الأنفاق فى مصر
- ٩- البحر المتوسط أكثر بحار العالم تلوثا
- ١١- ميناء دمياط مكمل لميناء الإسكندرية .
- ١٣- الإنتاج السمكى لا يكفى حاجة السكان فى مصر .
- ١٤- الزراعة اكبر نشاط اقتصادى فى مصر .
- ١٥- انخفاض الإنتاج السمكى من البحر الأحمر .
- ١٦- المراعى فى مصر ليس لها قيمة اقتصادية .
- ١٧- إصابة معظم سكان محافظة حلوان بالأمراض الصدرية .
- ١٨- يعتبر النقل النهري أفضل وسائل نقل البضائع ثقيلة الوزن رخيصة الثمن .
- ١٩- قلة أهمية الموانئ المصرية الواقعة على البحر الأحمر .
- ٢٠- عدم سهولة الملاحة النهرية على طول مجرى نهر النيل .
- ٢١- موازاة خطوط السكك الحديدية لنهر النيل .
- ٢٢- توقيع الاتفاقيات الدولية مع دول العالم المختلفة .
- ٢- ندرة المراعى فى مصر
- ٤- الصناعة تسبب تلوث البيئة .
- ٦- أهمية ميناء الإسكندرية .
- ٨- أهمية الصناعة فى مصر
- ١٠- إنشاء مشروع ترعة السلام .
- ١٢- خطورة المصانع داخل المدن

بِم تفسر :

عبدالرازق العربى ٠١٠٠٨١٩٧٠٥٨

التقويم الأول رقم ١

١٦

س١: أكمل ما يأتى :

- ١- مصادر المياه العذبة فى مصر تشمل ----- و ----- و -----
- ٢- من مصادر الطاقة المتجددة ----- و -----
- ٣- من أمثلة الطاقة غير المتجددة ----- و -----
- ٤- يدخل معدن ----- فى صناعة القطارات وقضبان السكك الحديدية
- ٥- يستخرج ملح الطعام من المياه -----

س٢: ضع علامة (√) أمام العبارة الصحيحة و علامة (×) أمام العبارة الخاطئة :

- ١- السد العالي حمى مصر من أخطار الفيضان ومن الجفاف ( )
- ٢- تصل قناة السويس نهر النيل بالبحر المتوسط ( )
- ٣- يستخدم الفوسفات فى صناعة الحلى ( )
- ٤- من مصائد المياه العذبة المياه الجوفية ( )

س٣: بِم تفسر :

لمزيد من المذكرات والكتب زر موقعنا المدرس بوك ( [www.modrsbook.com](http://www.modrsbook.com) )

- ١ - عدم توافر غابات طبيعية في مصر  
٢ - انخفاض الأهمية الاقتصادية للفحم عن البترول

التقويم الأول رقم ٢ ( مدرسة بنجر ١٩ بإدارة برج العرب بالإسكندرية )

س ١ : ضع علامة (√) امام العبارة الصحيحة و علامة (×) أمام العبارة الخاطئة:

- ١ - تشمل الموارد الطبيعية في مصر الطرق والمواصلات ( )  
٢ - السد العالي حمى مصر من أخطار الفيضان والجفاف ( )  
٣ - يوجد الحديد في مصر في منطقة أم بجمة ( )  
٤ - يعمل بالزراعة في مصر نحو ٥٠٪ من القوة العاملة ( )

س ٢ : أكمل الجمل الآتية

- ١ - تبلغ مساحة الاراضى الزراعية في مصر نحو..... مليون فدان  
٢ - تنقسم الصناعة إلى صناعة ..... وصناعة .....  
٣ - تنقسم الطاقة إلى نوعين هما طاقة ..... وطاقة .....  
٤ - يدخل الفوسفات في صناعة ..... و .....

س ٣ : ضع دائرة حول الكلمة التي لا تنتمى إلى المجموعة

- ١ - تعدين - بترول - منسوجات - غاز طبيعي  
٢ - صناعة الألبان - صناعة الأثاث - صناعة الجبن - صناعة العصائر  
٣ - بنزين - سولار - فحم - مازوت  
٤ - غاز طبيعي - فحم - سخانات شمسية - بترول

س ٤ : بم تفسر

- ١ - أهمية المياه العذبة في مصر  
٢ - ارتباط التلوث البيئي بالصناعة

١٧

الوحدة الثالثة : الدرس الأول : شخصيات وأحداث من العصر البطلمي

- البطالمة هم خلفاء الإسكندر الأكبر فبعد وفاته قسمت مملكته على قواده فكانت مصر من نصيب بطليموس الأول والبطالمة نسبة إلى اسمه .  
- مدة حكم البطالمة في مصر : قرابة ٣٠٠ عام من ( ٣٢٣ ق.م : ٣٠ ق.م )  
\* بطليموس الأول : هو بطليموس بن لاجوس ولقب بسوتير ( المنقذ ) لأنه أنقذ بلاد الإغريق بالقضاء على صراعات الوصول للحكم وتربى في قصر الملك فليب الثانى وكان صديقا للإسكندرو أشهر قواده وكان يكبره بعشر سنوات وشارك معه في معظم حروبه . وأسس دولته وجعل الإسكندرية عاصمة لها وكان يرغب في حكم مصر لأن لها ثروة عظيمة وتاريخ مجيد وحكمها ٣٨ عاما .

- ١ - أنشأ مجمع للبحوث العلمية والأدبية - دار للبحث العلمى ( جامعة الإسكندرية قديما ) وقد تخرج فيها علماء كثيرون في مختلف التخصصات .

أعمال بطليموس الأول

- ٢- اهتم بالزراعة وجعلها أكثر من مرة فى العام وأدخل الساقية والطنبور إلى جانب الشادوف
- ٤- أنشأ المناحل لتصدير العسل إلى الصين .
- ٥- وضع نواة لمكتبة الإسكندرية قديما .
- ٦- اهتم بالصناعة وخاصة المنسوجات الكتانية وعمل على رواج التجارة وأنشأ أول عملة معدنية فى مصر .

**\* كليوباترا السابعة :** آخر الملوك البطالمة فى مصر ، تولت الحكم بعد بطليموس الثانى عشر وكانت تجيد عدة لغات مثل المصرية والفارسية والأثيوبية والصومالية .

- تحالفت مع القائد الرومانى ( أنطونيوس ) ضد القائد الرومانى ( أكتافىوس ) .

- نجح أكتافىوس فى هزيمتهما فى موقعة ( أكتيوم البحرية ) عام ٣١ ق.م .

- انتحر انطونيوس بسبب هزيمته وتبعته كليوباترا حتى لا تقع أسيرة فى يد أكتافىوس واستولى أكتافىوس على مصر وأصبحت ولاية رومانية وانتهت دولة البطالمة فى مصر .

**\* الآثار والفنون فى عهد البطالمة**

- ١- منارة الإسكندرية : أنشئت فى عهد بطليمس الثانى .
- ٢- المعابد : مثل معبد دير المدينة ودندرة وإدفو وفيلة .
- من أبرز الآثار فى النوبة معابد كلابشة وبيت الوالى ودندرة ووادي السبوع .

- ١- ضعف الملوك بعد بطليموس الثالث .
- ٢- ثورات الشعب المصرى ضد حكم البطالمة .
- ٣- كثرة النزاع بين أفراد الأسرة الحاكمة منذ عهد بطليموس السادس .
- ٤- زيادة نفوذ روما وتدخلها فى أحوال مصر خاصة فى عهد كليوباترا السابعة .

**بطالمة :** اسم ينسب إلى بطليموس الأول مؤسس دولة البطالمة فى مصر .

**جامعة :** دار للعلم يدرس فيها الطالب العديد من التخصصات العلمية والأدبية .

**المنارة :** بناء مرتفع يتكون من عدة طوابق ويستخدم فى إرشاد السفن .

- نجح أكتافىوس فى هزيمة انطونيوس وكليوباترا فى موقعة ( أكتيوم البحرية ) عام ٣١ ق.م وفى عام ٣٠ ق.م استولى أكتافىوس على مصر وأصبحت ولاية رومانية .
- \* أكتافىوس ( أغسطس قيصر ) :** لقب بلقب ( أغسطس ) أى المبجل وأطلق هذا الاسم على أحد الشهور الميلادية وأصبح امبراطورا على مصر بعد وفاة يوليوس قيصر .
- قضى على ثورات المصريين فى بداية حكمه .
- احترم عقائد المصريين وقدم القرابين للالهة المصرية .
- اهتم بالزراعة وتطهير الترع وشئون الرى وإعادة بناء الجسور .

\* الأميراطور قسطنطين الأول : عرف بقسطنطين العظيم وكان حكمه نقطة تحول في تاريخ المسيحية حيث أصدر مرسوم ميلانو عام ٣١٣ م الذي أعلن فيه إلغاء العقوبات المفروضة على من يعتنق المسيحية والاعتراف بها ديانة إلى جانب الديانة الوثنية وإنهاء عصر اضطهاد المسيحية وقام بإعادة أملاك الكنيسة المصادرة.

\* أسباب انهيار الحكم الروماني :

- ١ - حرمان المصريين من الحكم .
- ٢ - إساءة معاملة أصحاب الأرض واعتبروهم طائفة دنيا تخدم الرومان والإغريق .
- ٣ - الاضطهاد الديني الذي تحول إلى اضطهاد مذهبي .
- ٤ - فرض ضرائب متعددة على المصريين
- قام المصريون بثورات ضد الرومان أهمها ثورة الرعاة في الدلتا بسبب سياسة الرومان الظالمة ضد المصريين .

\* آثار وفنون الرومان في مصر :

- ١ - جبانة كوم الشقافة بالإسكندرية : مزيج من الفن الروماني والفن الفرعوني .
- ٢ - حصن بابليون في عصر الإمبراطور تراجان : ( للحامية العسكرية الرومانية ) ليكون خط الدفاع الأول لبوابة مصر الشرقية وقد اختير موقعه لأنه يتوسط بين الوجه البحرى والقبلى وبذلك يسهل على الرومان السيطرة على أية ثورات ضدهم .
- ٣ - عمود السوارى : قطعة واحدة من الجرانيت الأحمر وهو أعلى نصب تذكارى في العالم وأقيم في عهد الإمبراطور دقلديانوس .
- ٤ - معبد رأس السوداء : اكتشف مصادفة عام ١٩٣٦ م وهو مكون من طابقين السفلى للعبادة والعلوى للسكن .
- ٥ - المسارح : أقام الرومان المسارح للاحتفال بأعيادهم الدينية وأعياد الإمبراطور .

مفاتيح

- جبانة : لفظ اطلق على مكان دفن الموتى ومشتقة من كلمة الجب أى البئر .
- الشحنة السعيدة : هى أحمال القمح التى كانت ترسلها مصر إلى روما كل عام .
- مرسوم ميلانو: مرسوم أصدره قسطنطين الأول يعترف فيه بالديانة المسيحية إلى جانب الوثنية .

# كانت مصر ترسل للإمبراطورية الرومانية شحنة سنوية من القمح عرفت باسم ( شحنة القمح السعيد ) .

الدرس الثالث : الحقبة القبطية في مصر

\* ظهور المسيحية : ظهرت المسيحية في عهد الإمبراطور الروماني أغسطس قيصر في بيت لحم بفلسطين ، ودعت إلى عبادة إله واحد وإلى السلام وحب الله وحب بنى الإنسان والإخاء والتسامح . سارع الناس إلى اعتناق المسيحية وترك عبادة الأوثان وقد تعرض السيد المسيح ﷺ للاضطهاد من اليهود والرومان .

\* العائلة المقدسة بمصر: نتيجة اضطهاد هيرودوس قامت العائلة المقدسة برحلة إلى مصر ثم عاد السيد المسيح بعد موت هيرودوس إلى الناصرة ثم بدأ الرسالة في فلسطين .

لمزيد من المذكرات والكتب زر موقعنا المدرس بوك ( [www.modrsbook.com](http://www.modrsbook.com) )

**\* القديس مرقس :** من أوائل من آمنوا بالسيد المسيح وكان يقيم في مدينة القدس (أورشليم) وقت ظهور السيد المسيح فاصطفاه السيد المسيح من جملة السبعين رسولاً. و قام بالتبشير في فلسطين وقبرص وبعض جهات آسيا الصغرى ثم اتجه إلى مصر فكان أول من بشر بالإنجيل في مصر .

**\* انتصار المسيحية في مصر:** دخلت المسيحية مصر على يد القديس مرقس منتصف القرن الأول الميلادي . انتعشت تعاليم القديس مرقس في الإسكندرية وتأسست فيها مدرسة للدراسات الدينية مما جعل الرومان يتربصون للقضاء عليه لكنه واصل أداء رسالته غير مهتم بما يدبرون وبنى أول كنيسة بالإسكندرية وهو أول أسقف لها وأسس المدرسة اللاهوتية . وتجول القديس مرقس في أنحاء مصر يبشر بتعاليم المسيحية - بدأت المسيحية تنتشر في مصر على حساب الديانة الوثنية حتى انتصرت عليها مما أفرغ قياصرة الرومان وولاتهم في مصر لاعتبارهم المسيحية عدوا لهم ولذلك شنوا حربا ضد أتباع القديس مرقس حتى استشهد على يد الرومان عام ٦٨ م .

**\* الإمبراطور دقلديانوس ٢٨٤م :** يعرف عصره بعصر الاضطهاد الأكبر أو عصر الشهداء فقد أصدر مرسوما يهدم الكنائس وإعدام من يتبع التعاليم المسيحية وحرق الكتب المقدسة والقبض على الأساقفة وتعذيبهم فاتخذت الكنيسة القبطية في مصر تقويمها بسنة ولاية هذا الإمبراطور ٢٨٤م وسمى بالتقويم القبطي .

**\* التخلص من ظلم الرومان والبيزنطيين:** عندما قدم العرب المسلمون على يد ( عمرو بن العاص ) عام ٦٤١م الذي أنهى على الحكم البيزنطي في مصر .

**\* الآثار القبطية في مصر :**

- ١- الكنيسة المعلقة : أقدم كنائس مصر القديمة الباقية وهي الكنيسة الوحيدة التي بدون قباب بين كنائس مصر القديمة كلها وسميت بالمعلقة لأنها اقيمت على أنقاض جدران برجين كبيرين من أبراج أحد الحصون الرومانية .
- ٢- أديرة وادى النطرون : ترجع للعصور الأولى للمسيحية أشهرها دير الأنبا بيشوى .
- ٣- دير المحرق : يوجد في أسيوط وهو دير السيدة العذراء وهو أكبر الأديرة في مصر والشرق الأوسط . وما زال يحتفظ بهيكل الكنيسة الصغيرة التي بناها يوسف النجار ويتميز بروحانيته لطول مقام العائلة المقدسة فيه .

المسيحية: ديانة سماوية نزلت على سيدنا عيسى ودخلت مصر على يد القديس مرقس. الأوثان : تماثيل مصنوعة من الخشب أو الحجارة .

س١: ما المقصود بالعصر البطلمى ؟

س٢: كم استمر حكم البطالمة في مصر ؟

س٣: ما هو لقب بطليموس الأول ؟

س٤: اذكر أهم أعمال بطليموس الأول .

س٥: اذكر ما تعرفه عن كليوباترا .

س٦: عرف كلا من :

لمزيد من المذكرات والكتب زر موقعنا المدرس بوك ( [www.modrsbook.com](http://www.modrsbook.com) )

س٧: اذكر بعض الآثار التى خلفها البطالمة .

س٨: اذكر أسباب سقوط دولة البطالمة .

س٩: اكتب ما تعرفه عن :

(أ) أكتافىوس (ب) قسطنطين الأول

س١٠: تكلم عن بعض الآثار التى تركها الرومان فى مصر .

س١١: لماذا أقام الرومان المسارح ؟

س١٢: ما أسباب انهيار الحكم الرومانى فى مصر ؟

س١٣: فى أى عهد ولد السيد المسيح ؟ وإلى أى شئ كان يدعو ؟

س١٤: متى دخلت المسيحية مصر ؟

س١٥: متى تخلص المصريون من ويلات الحكم الرومانى ؟

س١٦: اكتب ما تعرفه عن :

(أ) القديس مرقس (ب) الكنيسة المعلقة  
(ج) أديرة وادى النطرون (د) دير المحرق

س١٧: يم تفسر :

١- تسمية العصر البطلمى بهذا الاسم .

٢- إنشاء البطالمة لمنارة الإسكندرية .

٣- اتخاذ عام ٢٨٤م بداية التقويم القبطى .

٤- تحالف كليوباترا مع القائد الرومانى انطونيوس .

٥- تسمية بطليموس الأول باسم المنقذ .

٦- عصر دقلديانوس هو عصر الشهداء ( الاضطهاد الأكبر ) .

٧- سقوط دولة البطالمة فى مصر .

٨- تسمية أقدم الكنائس بمصر بالكنيسة المعلقة .

٩- رغبة بطليموس الأول فى الإنفراد بحكم مصر .

١٠- انتحار انطونيوس وكليوباترا .

١١- اهتمام بطليموس الأول بإنشاء العديد من المناحل .

١٢- إقبال المصريين على اعتناق الدين المسيحى .

١٣- ضعف دولة البطالمة بعد بطليموس الثالث .

١٤- اضطهاد الرومان للمسيحية وأتباعها .

١٥- كان حكم قسطنطين نقطة تحول فى تاريخ المسيحية .

س١٨: أكمل العبارات بالكلمات المناسبة :

١- يقصد بالعصر البطلمى عصر خلفاء -----

٢- بعد وفاة الإسكندر الأكبر كانت مصر من نصيب القائد -----

٣- حكم بطليموس الأول مصر لمدة ----- عاما .

٤- حدثت معركة أكتيوم البحرية عام ----- ق.م

- ٥- سمي العصر البطلمي بهذا الأسم نسبة إلى -----
  - ٦- استمر حكم البطالمة في مصر ما يقرب من ----- سنة .
  - ٧- تربي بطليموس الأول في قصر الملك -----
  - ٨- قسمت إمبراطورية الإسكندر الأكبر بعد وفاته بين -----
  - ٩- تخلصت مصر من الرومان على يد ----- عام ----- م.
  - ١٠- احترم أكتافىوس عقائد المصريين وقدم القرابين للآلهة -----
  - ١١- اتخذ بطليموس الأول مدينة ----- عاصمة لدولته .
  - ١٢- أصدر قسطنطين الأول عام ٣١٣ م مرسوم -----
  - ١٣- أنشئت دار البحث العلمى ( جامعة الإسكندرية ) فى عهد بطليموس-----
  - ١٤- تم بناء أول كنيسة بمدينة----- فى مصر بينما الكنيسة التى ليس لها قباب هى -----
  - ١٥- أقيم فى عهد دقلديانوس أعلى نصب تذكارى فى العالم أطلق عليه العرب -----
  - ١٦- الذى كان يحمل لقب( سوتير ) أى المنقذ هو بطليموس-----
  - ١٧- اهتم بطليموس الأول بالصناعة وخاصة صناعة المنسوجات-----
  - ١٨- أشهر ثورات المصريين عند الرومان ثورة ----- فى الدلتا .
  - ١٩- أنشأ بطليموس الأول المناحل لتصدير العسل إلى -----
  - ٢٠- صنعت أول عملة معدنية فى عهد-----
  - ٢١- حكمت مصر ----- بعد بطليموس الثانى عشر .
  - ٢٢- ولد السيد المسيح فى ----- بفلسطين .
  - ٢٣- المعبد الذى تم اكتشافه بطريق المصادفة عام ١٩٣٦م معبد -----
  - ٢٤- أصبح أكتافىوس إمبراطورا على مصر بعد وفاة-----
  - ٢٥- احترم الإمبراطور ----- عقائد المصريين .
  - ٢٦- اعترف الإمبراطور قسطنطين ب----- كديانة .
  - ٢٧- جبانة كوم الشقافة مزيج من الفن ----- و -----
  - ٢٨- انتشرت المسيحية فى القرن ----- الميلادى.
  - ٢٩- تحالفت كليوباترا السابعة مع القائد الرومانى -----
  - ٣٠- نجح القائد ----- فى هزيمة كليوباترا و حليفها فى معركة ----- ( ٣١ ق.م )
  - ٣١- فى عام ----- ق.م دخل أكتافىوس مصر بجيوشه .
  - ٣٢- كانت ----- آخر ملوك البطالمة فى مصر .
  - ٣٣- حمل ----- لقب أغسطس أى المبجل .
  - ٣٤- كان حكم ----- نقطة تحول فى تاريخ المسيحية .
  - ٣٥- أطلق على عصر دقلديانوس عصر -----
  - ٣٦- دخلت المسيحية مصر فى منتصف القرن -----
  - ٣٧- احترم الإمبراطور قسطنطين ----- كديانة بجانب الديانة الوثنية.
  - ٣٨- تدل المنشآت التى أنشأها بطليموس الأول أنه كان -----
- س ١٩: ضع علامة (✓) أمام العبارة الصحيحة و علامة (×) أمام العبارة الخاطئة:
- ١- دخلت المسيحية مصر على يد القديس مرقس. ( )
  - ٢- أقيمت منارة الإسكندرية فى عهد بطليموس الخامس ( )

- ٣- بدأ ضعف دولة البطالمة بعد عهد بطليموس الثالث ( )
  - ٤- بدأت الكنيسة القبطية في مصر بالتاريخ للأحداث منذ عام ٢٦٨ م ( )
  - ٥- تحالفت كليوباترا السابعة مع القائد أنطونيوس ( )
  - ٦- البطالمة هم خلفاء الإسكندر الأكبر في مصر ( )
  - ٧- كان الإسكندر الأكبر يكبر بطليموس الأول بعشر سنوات ( )
  - ٨- أصبح أكتافايوس إمبراطور على مصر بعد وفاة أنطونيوس . ( )
  - ٩- انتهى الاضطهاد الروماني للديانة المسيحية بمصر بالفتح الإسلامي . ( )
  - ١٠- أصدر قسطنطين الأول منشور ميلانو عام (٣١٣ م) . ( )
  - ١١- أعاد الإمبراطور دقلديانوس أملاك الكنيسة المصادرة . ( )
  - ١٢- جبانة كوم شقافة مزيج من الفن الروماني و الفن الفارسي . ( )
  - ١٣- اتخذ بطليموس الأول مدينة القاهرة عاصمة لدولته ( )
  - ١٤- حدثت معركة أكتيوم البحرية عام (٣١ ق . م) ( )
  - ١٥- أرسل قسطنطين مرسوما بهدم الكنائس وحرق الكتب المقدسة . ( )
  - ١٦- بعد وفاة الإسكندر الأكبر كانت مصر من نصيب أنطونيوس ( )
  - ١٧- استمر حكم البطالمة في مصر نحو (٦٠٠ سنة) ( )
  - ١٨- كان بطليموس الخامس صديقا للإسكندر الأكبر ( )
  - ١٩- وضع بطليموس الأول نواة لمكتبة الإسكندرية القديمة ( )
  - ٢٠- صنعت في عهد بطليموس الأول أول عملة معدنية ( )
  - ٢١- تولت الملكة كليوباترا السابعة حكم مصر بعد بطليموس الأول ( )
  - ٢٢- بوفاة كليوباترا السابعة وحليفها أصبحت مصر ولاية فارسية ( )
  - ٢٣- احترم الرومان المصريين و أشركوهم في حكم البلاد . ( )
  - ٢٤- انتشرت المسيحية في القرن الأول الميلادي . ( )
  - ٢٥- دخلت المسيحية مصر على يد القديس باخوم . ( )
  - ٢٦- تحالفت الملكة كليوباترا السابعة مع القائد أكتافايوس ( )
  - ٢٧- أصبحت مصر ولاية رومانية منذ عام (٣٠ ق.م) ( )
  - ٢٨- استطاع اكتافايوس هزيمة أنطونيوس عام (٣١ ق.م) . ( )
  - ٢٩- رحب الرومان بالمسيحية كديانة جديدة . ( )
  - ٣٠- كانت مصر تابعة لروما في العصر البيزنطي . ( )
  - ٣١- اكتشف معبد رأس السوداء بطريق المصادفة عام ١٩٣٩ م . ( )
  - ٣٢- كان حكم الإمبراطور قسطنطين الأول نهاية لاضطهاد المسيحيين . ( )
  - ٣٣- يعد القديس مرقس من أوائل الذين آمنوا بالسيد المسيح . ( )
  - ٣٤- كانت منف عاصمة لمصر زمن الحكم الروماني . ( )
  - ٣٥- ولد السيد المسيح في القاهرة . ( )
  - ٣٦- اضطهد الإمبراطور أغسطس قيصر المسيحيين . ( )
  - ٣٧- ولد السيد المسيح في عهد الإمبراطور الروماني نيرون . ( )
  - ٣٨- تنازل الإمبراطور أكتافايوس عن حكم مصر للإمبراطور قسطنطين الأول . ( )
- س ٢٠: أكتب ما نشير إليه كل عبارة من العبارات الآتية :



- ١- اللقب الذى حمله بطليموس الأول .
- ٢- أنشأ أول عملة معدنية فى التاريخ .
- ٣- عصر خلفاء الإسكندر المقدونى فى مصر .
- ٤- المدينة التى اتخذها بطليموس الأول عاصمة لدولته .
- ٥- وضع نواتها بطليموس الأول استكمل بناؤها فى عهد خلفائه .
- ٦- المعركة التى انتهت بانتصار أكتافىوس ودخوله مصر بجيش
- ٧- كان الهدف من إقامتها إرشاد السفن فى عرض البحر ليلا ونهارا .
- ٨- حكم مصر بعد وفاة الإسكندر الأكبر لمدة ٣٨ عاما .
- ٩- تولت حكم مصر بعد بطليموس الثانى عشر .
- ١٠- انتصر فى معركة أكتيوم ودخل مصر بجيش عام ( ٣٠ ق.م )
- ١١- حمل لقب أغسطس أى المبجل وأصبح إمبراطور على مصر .
- ١٢- بناء مكون من طابقين السفلى للعبادة والعلوى للسكن ، اكتشف مصادفة عام ١٩٣٦م
- ١٣- أهم الثورات التى قام بها الشعب المصرى ضد الرومان .
- ١٤- التقويم الذى اتخذته الكنيسة القبطية ويبدأ بعام ٢٨٤م .
- ١٥- ولد فى بيت لحم بفلسطين وأخذ يدعو للإيمان بآله واحد وإلى الحب والسلام والتسامح.
- ١٦- ديانة سماوية دخلت مصر على يد القديس مرقس .

س ٢١: اختر الإجابة الصحيحة مما بين القوسين :

- ١- ولد السيد المسيح فى عهد الإمبراطور ----- (دقلديانوس- أغسطس قيصر- قسطنطين)
- ٢- استمر حكم دولة البطالمة لمصر حوالى ----- عام ( ٢٠٠ - ٣٠٠ - ٣٥٠ - ٤٠٠ )
- ٣- حدثت معركة أكتيوم عام ----- ق.م ( ٢٥٠ - ٣٠ - ٣١ - ٣٥ )
- ٤- التقويم القبطى يبدأ بعصر دقلديانوس عام ----- ميلادية ( ٢٨١ - ٢٨٢ - ٢٨٣ - ٢٨٤ )
- ٥- انتهى العصر البيزنطى لمصر عام ----- ( ٣٩٥م - ٣٥٠م - ٦٤١م - ٧٥١م )
- ٦- أقيم عمود السورارى فى مدينة ----- ( الفسطاط - الإسكندرية - القاهرة - العريش )
- ٧- صدر مرسوم ميلانو عام ----- ( ١٣٣م - ٣١٣م - ٣٣١م - ٥١٣م )
- ٨- انتشرت المسيحية فى القرن ----- الميلادى ( الأول - الثانى - الثالث )
- ٩- أنشأ بطليموس الأول المناحل لتصدير العسل إلى ----- ( الصين - روما - سوريا - اليونان )
- ١٠- استشهد القديس مرقس عام ----- ميلادية . ( ٦٤ - ٦٥ - ٦٨ )
- ١١- ولد السيد المسيح ببیت لحم فى ----- ( سوريا - العراق - فلسطين - مصر )
- ١٢- أحد أكبر أديرة مصر والشرق الأوسط دير----- (الأنبا بيشوى- المحرق- الأنبا مقار- السريان)
- ١٣- أصدر ----- مرسوم ميلانو الذى أنهى عصر اضطهاد المسيحيين .
- ١٤- أسس بطليموس ----- دولة البطالمة فى مصر ( الأول - الثانى - الثالث - الرابع )

س ٢٢: صوب ما تحته خط :

- ١- جاءت العائلة المقدسة لمصر هربا من اضطهاد الامبراطور قسطنطين .
- ٢- تحالفت كليوباترا مع انطونيوس ضد القائد دقلديانوس .
- ٣- استمر حكم البطالمة لمصر مدة ١٠٠ عام .
- ٤- العصر الرومانى هو عصر خلفاء الإسكندر فى مصر .

لمزيد من المذكرات والكتب زر موقعنا المدرس بوك ( [www.modrsbook.com](http://www.modrsbook.com) )

س١ أكمل الجمل الآتية :

- ١- المياه الجوفية المصدر الرئيسى للحياة فى -----
- ٢- تعتبر أقل مناطق إنتاج البترول فى مصر منطقة -----
- ٣- تطورت الصناعة فى مصر على يد طلعت حرب مؤسس بنك -----
- ٤- استمر بطليموس الأول فى الحكم ----- عام
- ٥- أصبحت مصر ولاية رومانية عام ----- ق . م

س٢ ضع علامة ( √ ) أمام العبارة الصحيحة وعلامة ( × ) أمام العبارة الخاطئة:

- ١- تعتبر الكبارى والطرق من الظواهر الطبيعية ( )
- ٢- الزراعة المصرية تعتمد على صناعة الأسمدة ( )
- ٣- النقل النهري من أرخص وسائل النقل فى مصر ( )
- ٤- استمر حكم البطالمة فى مصر ما يقرب من ٣٠٠ عام ( )
- ٥- يعتبر النقل الجوى أرخص وسائل النقل ( )

س٣ : تخير الإجابة الصحيحة من بين الأقواس :

- ١- من موارد المياه العذبة فى مصر ----- (نهر النيل، المياه الجوفية، الأمطار، كل ما سبق)
- ٢- تمثل محطات الكهرباء المانية .... % من إجمالى الطاقة الكهربائية (١٠ - ١٥ - ١٦ - ١٨)
- ٣- أقيم أول خط حديد فى مصر بين القاهرة و ----- (أسوان، السويس، الإسكندرية، المنيا)
- ٤- صدر مرسوم ميلانو عام ----- م (١٣٣ - ٣١٣ - ٣٣١ - ٥١٣)
- ٥- تعوق الملاحة النهرية فى مصر ----- (تجمد النهر، السدود والقناطر، قلة السفن، كثرة المياه)

س٤ : اختر من المجموعة (ب) ما يناسب المجموعة (أ) وضع رقمها بين القوسين:

- | ( أ )  | ( ب )                  |
|--|------------------------|
| ١- صرف مخلفات المصانع مباشرة إلى النيل               | ( ) إنجلترا            |
| ٢- من البحيرات الطبيعية فى شمال الدلتا               | ( ) فلسطين             |
| ٣- مصر ثانى دولة فى العالم استخداما للسكك الحديد بعد | ( ) تلوث هوانى         |
| ٤- ولد السيد المسيح فى بيت لحم بـ                    | ( ) الحلى وبعض الأدوية |
| ٥- يستخدم الذهب فى صناعة                             | ( ) تلوث مانى          |
|  | ( ) بحيرة قارون        |
|  | ( ) بحيرة البرلس       |

س٥ : اكتب المفهوم لكل عبارة من العبارات الآتية :

- ١- حدوث تغيرات لبعض موارد الطبيعة فتصبح غير نظيفة
- ٢- كل ما ينتج عن احتراق الوقود أو حرارة الشمس أو قوة الرياح
- ٣- لفظ أطلق على مكان دفن الموتى ومشتقة من كلمة الجب أى البئر
- ٤- تولت حكم مصر بعد بطليموس الثانى عشر .
- ٥- أنشأ أول عملة معدنية فى التاريخ .

لمزيد من المذكرات والكتب زر موقعنا المدرس بوك ( [www.modrsbook.com](http://www.modrsbook.com) )

س١: أكمل العبارات الآتية

- (أ) أكثر مصادر الطاقة غير المتجددة تلوثاً للبيئة هو-----  
 (ب) تربط قناة السويس بين البحر الأحمر والبحر-----  
 (ج) دخلت المسيحية في مصر في منتصف القرن-----  
 (د) تربى بطليموس الأول في قصر الملك-----  
 (هـ) استمر حكم البطالمة في مصر-----

س٢: ضع علامة (✓) أمام العبارة الصحيحة وعلامة (x) أمام العبارة الخاطئة

- (أ) تتوافر بمصر الغابات الطبيعية . { }  
 (ب) الطاقة الشمسية طاقة متجددة { }  
 (ج) صناعة الحديد والصلب من الصناعات الاستخراجية { }  
 (د) إنتاج اللحوم في مصر يكفي حاجة السكان { }  
 (هـ) يعمل بالزراعة في مصر نحو ٥٠٪ من الأيدي العاملة { }

س٣: اختر الإجابة الصحيحة مما بين القوسين :-

- (أ) يبلغ انتاج البترول في البحر المتوسط ----- ٪ ( ٥ - ١٠ - ١٥ - ٣٠ )  
 (ب) تبلغ مساحة الاراضي الزراعية في مصر----- مليون فدان ( ٨.٥ - ٩ - ١٢ - ١٥ )  
 (ج) ولد السيد المسيح ببيت لحم في ----- (مصر- فلسطين- سوريا- العراق)  
 (د) استمر بطليموس الأول في حكم مصر----- عاماً ( ٣٨ - ٤٨ - ٥٨ - ٦٨ )  
 (هـ) التقويم القبطي يبدأ بعصر دقلديانوس عام----- م ( ٢٨١ - ٢٨٢ - ٢٨٣ - ٢٨٤ )

س٤: صل العبارات من العمود الأيمن بما يناسبها من كلمات العمود الأيسر :-

- |                                       |                    |
|---------------------------------------|--------------------|
| العمود الأيمن                         | العمود الأيسر      |
| (أ) توجد الواحات البحرية في           | البحر المتوسط      |
| (ب) تصب مياه النيل في                 | الصحراء الغربية    |
| (ج) مصر أول دولة عربية وأفريقية أقامت | الموارد الخام      |
| (د) من المقومات الطبيعية للصناعة      | مشروع مترو الأنفاق |
| (هـ) يتم تزويد قناة توشكى بالمياه من  | بحيرة ناصر         |

س٥: إكتب المفهوم الذي يدل على كل العبارات الآتية :-

- (أ) حمى مصر من أخطار الفيضان وهو مصدر هام لتوليد الكهرباء  
 (ب) أرخص وسائل النقل  
 (ج) تحويل المادة الخام إلى منتجات  
 (د) استخراج المعادن من باطن الأرض



س١: أ) أمامك خريطة صماء لمصر وضح ما تشير إليه الأرقام :

١- منطقة استخراج المنجنيز -----

٢- منطقة استخراج الحديد -----

٣- شبه جزيرة -----

٤- بحيرة -----

ب) بم تفسر : ١- أهمية المياه العذبة فى مصر .

٢- انخفاض الأهمية الاقتصادية للقمح عن البترول .

٣- يعتبر النقل النهري أفضل وسائل نقل البضائع .

س٢: أ) ما النتائج المترتبة على : ١- وجود الفوسفات بكميات كبيرة فى مصر .

٢- تلوث البحيرات الطبيعية فى مصر .

ب) ضع علامة (✓) أمام العبارة الصحيحة وعلامة (×) أمام العبارة غير الصحيحة :-

١. مصر أقدم دولة فى أفريقيا استخداما للسكك الحديدية . ( )

٢. إنتاج اللحوم فى مصر يكفى حاجة السكان . ( )

٣. نهر النيل هو المصدر الوحيد للثروة السمكية . ( )

٤. من مناطق استخراج الفوسفات بمصر وادى النيل عند السباعية . ( )

٥. أسماك البحر المتوسط و البحر الأحمر و نهر النيل تعتبر موارد طبيعية . ( )

٦. يوجد المنجنيز فى مصر فى منطقة أم بجمة . ( )

س٣: أ) تخير الإجابة الصحيحة مما بين القوسين فيما يلى :

١. يوجد الحديد فى مصر فى ..... مناطق . ( أربع - خمس - ثلاث )

٢. وسيلة لزيادة الكفاءة البشرية ..... ( الزراعة - التجارة - التعليم - الصناعة )

٣. يحتل ..... المركز الأول من الصادرات الزراعية لمصر . ( القطن - البرتقال - الأرز )

٤. يعوق الملاحة النهرية فى مصر ( السدود والقناطر - تجمد النهر - قلة السفن )

٥. ولد السيد المسيح ببيت لحم فى ( سوريا - فلسطين - مصر )

٦. الذى لقب بـ ( سوتير ) هو ( فيليب الثانى - بطليموس الأول - الإسكندر الأكبر )

ب) أجب على الأسئلة الآتية :

١- حدد ثلاثة من الآثار التى تركها الرومان فى مصر .

٢- كيف تحررت مصر من ولاية الحكم الرومانى والبيزنطى .

س٤: أ) أكمل الفراغ فى العبارات الآتية بكلمات مناسبة :

١- اعترف الإمبراطور قسطنطين بـ ..... كديانة .

٢- أشهر ثورات المصريين عند الرومان ثورة ..... فى الدلتا .

- ٣- سمي العصر البطلمي بهذا الاسم نسبة إلى -----  
 ٤- بوفاة كليوباترا السابعة أصبحت مصر ولاية -----  
 ٥- أطلق على عصر دقلديانوس عصر -----  
 ٦- دخلت المسيحية إلى مصر في منتصف القرن -----  
 ب) اقرأ العبارة الآتية ثم أجب :

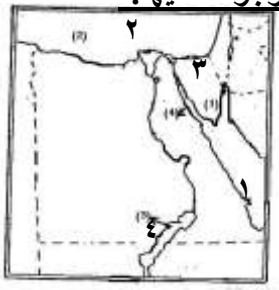
" قررت الملكة كليوباترا السابعة الانتحار بعد هزيمتها وحليفها أنطونيوس في معركة أكتيوم البحرية عن طريق لدغة أفعى سامة وكان سبب الانتحار أنها لم تكن تريد أن تمشي في شوارع روما كأسيرة مكبلة بالحديد في مواكب النصر الرومانية " .

١- متى قررت الملكة كليوباترا السابعة الانتحار ؟

٢- ما نتائج معركة أكتيوم البحرية ؟

### الامتحان رقم ٤

س ١ : ( أ ) أمامك خريطة صماء لمصر اكتب مدلول الأرقام الموجودة عليها :-



- ١- البحر -----  
 ٢- البحر -----  
 ٣- شبه جزيرة -----  
 ٤- بحيرة -----

ب) اكتب المصطلح التي تدل عليه العبارات الآتية :-

- ١- كل الموارد التي منحها الله للإنسان  
 ٢- المصدر الرئيسي للمياه العذبة في مصر  
 ٣- حالة مناخية تندر فيها الأمطار

س ٢ : ( أ ) ضع علامة ( √ ) أمام العبارات الصحيحة و علامة ( × ) أمام الخاطئة

- ١- السد العالي حمى مصر من أخطار الفيضان والجفاف ( )  
 ٢- يستخدم الفوسفات في صناعة الحلى ( )  
 ٣- الطاقة الشمسية طاقة غير متجددة ( )  
 ٤- تختلف أهمية المعادن حسب وجودها في الطبيعة ( )  
 ٥- يعمل بالزراعة في مصر نحو ٥٠ ٪ من القوة العاملة ( )  
 ٦- يعتبر النقل البرى ا رخص وسائل النقل ( )  
 ب) بم تفسر :  
 ١- الفوسفات من أهم المعادن في مصر .  
 ٢- تلوث مياه نهر النيل .

س ٣ : ( أ ) أكمل العبارات الآتية :-

- ١- السياحة نموذج من الأنشطة -----  
 ٢- تعتمد الزراعة في الواحات على مياه -----  
 ٣- أقل مصادر الطاقة غير المتجددة أهمية هو -----

٤- سمي العصر البطلمي بهذا الاسم نسبة إلى .....

٥- أشهر ثورات المصريين عند الرومان ثورة ..... في الدلتا .

٦- ولد السيد المسيح ( عليه السلام ) في مدينة ..... بفلسطين

( ب ) أعد كتابة العبارات صحيحة بعد تصويب ما تحته خط :

١- بعد وفاة الاسكندر الأكبر كانت مصر من نصيب انطونيوس .

٢- سمي عصر قسطنطين الأول بعصر الاضطهاد الأكبر .

س ٤ : ( أ ) اختر الإجابة الصحيحة مما بين القوسين :

١- دخلت المسيحية إلى مصر في منتصف القرن ( الأول - الثاني - الثالث - الرابع )

٢- العصر البطلمي هو عصر خلفاء ( انطونيوس - اكتافيوس - الاسكندر الأكبر - يوليوس )

٣- انتهى صراع انطونيوس واكتافيوس في معركة ( حطين - نوارين - اكتيوم - أبى قير )

٤- اعترف قسطنطين ب.... كديانة رسمية ( المسيحية - المجوسية - الوثنية - الإسلامية )

٥- حمل الملك ..... لقب أغسطس ( قسطنطين - انطونيوس - اكتافيوس - بطليموس )

٦- تم تشييد أول كنسية في مصر بمدينة ( القاهرة - الإسكندرية - أسوان - الدقهلية )

( ب ) ولد السيد المسيح ( عليه السلام ) خلال عهد الإمبراطور الروماني أغسطس قيصر

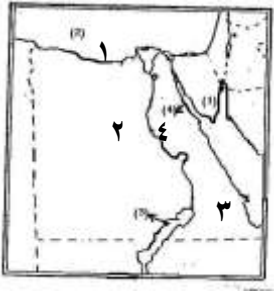
في مدينة بيت لحم بفلسطين. في ضوء ذلك اذكر سببا واحدا:

١- إقبال المصريين على اعتناق الدين المسيحي .

٢- اضطهاد الرومان للمسيحية وأتباعها .

الامتحان رقم ٥ ( مدرسة السلاهي ٢٠١٢م )

س ١ : ( أ ) أمامك خريطة صماء لمصر اكتب ما تدل عليه الأرقام



١- البحر .....

٢- منطقة استخراج الحديد .....

٣- الصحراء .....

٤- نهر .....

( ب ) اكتب المصطلح الذي تدل عليه كل عبارة

١- معدن أصفر يستخدم في صناعة الحلى

٢- تحويل المواد الخام إلى سلع يمكن الاستفادة منها

٣- كهرباء تولد من المساقط المائية وحركة الأمواج

س ٢ : ( أ ) اختر الإجابة الصحيحة مما بين القوسين :

١- يعتمد مشروع شرق العوينات على [ نهر النيل - المياه الجوفية - بحيرة ناصر ]

٢- من مصادر الطاقة المتجددة ..... [ الشمس - البترول - الفحم - الغاز الطبيعي ]

٣- يعوق الملاحة النهرية في مصر [ تجمد النهر - قلة السفن - صيد السمك - السدود والقناطر ]

٤- يستخدم في صناعة الحديد والصلب ..... [ الفوسفات - المنجنيز - النحاس - الذهب ]

٥- الكوميسا هو اتحاد اقتصادى يضم دول ..... [ آسيا - أوربا - استراليا - شرق وجنوب أفريقيا ]

٦- يسمى زيادة منسوب المياه في النهر ..... [ الجفاف - الفيضان - التجويف - التصحر ]

لمزيد من المذكرات والكتب زر موقعنا المدرس بوك ( [www.modrsbook.com](http://www.modrsbook.com) )

(ب) بم تفسر : ١- الفوسفات من أهم المعادن في مصر .

٢- أهمية المياه المالحة .

س٣: (أ) ضع علامة (√) أمام العبارة الصحيحة وعلامة (x) أمام العبارة غير الصحيحة :

١- تصل مياه نهر النيل إلى شمال سيناء عن طريق ترعة السلام ( )

٢- يؤدي حسن استثمار الموارد الطبيعية إلى التقدم الاقتصادي ( )

٣- البترول والغاز الطبيعي من المصادر الرئيسية للطاقة والدخل القومي في مصر ( )

٤- يعتمد مصنع الحديد والصلب في حلوان على حديد شرق أسوان ( )

٥- الإنتاج السمكي في مصر يكفي حاجة السكان ( )

٦- يوجد الذهب في الصحراء الشرقية بجبال البحر الأحمر ( )

(ب) اذكر سبب واحد : ١- سقوط دولة البطالمة

٢- تقدم الزراعة في عهد بطليموس الأول ٣- هجرة العائلة المقدسة إلى مصر

س٤: (أ) أكمل مكان النقط بكلمة مناسبة لكل عبارة :

١- ولد السيد المسيح ببیت لحم في .....

٢- التقويم القبطي يبدأ بعصر دقلديانوس عام .....

٣- استشهد القديس مرقس عام ..... ميلادية

٤- دخلت المسيحية مصر في منتصف القرن .....

٥- أصدر قسطنطين الأول عام ٣١٣ م مرسوم .....

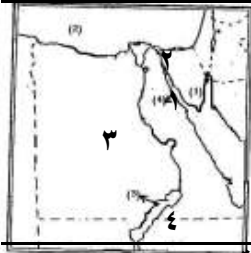
٦- أصبحت مصر ولاية رومانية عام ..... ق م

(ب) " عانى المصريون القهر والإذلال وعدم المساواة في عهد الرومان مما جعلهم

يقبلون على اعتناق المسيحية . " في ضوء هذه العبارة اذكر سبب لكل من :

١- اعتناق المصريين المسيحية . ٢- اهتمام الرومان ببناء المسارح

الامتحان رقم ٦ (زاوية الناعورة ٢٠١٢)



س١: (أ) أمامك خريطة صماء لمصر اكتب مدلول الأرقام :

١- منطقة إنتاج البترول .....

٢- قناة .....

٣- منطقة لاستخراج الحديد .....

٤- بحيرة .....

(ب) اذكر أهمية المياه العذبة .

س٢: (أ) أكمل العبارات الآتية: ١- يدخل معدن الفوسفات في صناعة .....

٢- أكثر مصادر الطاقة غير المتجددة تلويثاً للبيئة .....

٣- تم توصيل مياه النيل إلى شمال سيناء عن طريق .....

(ب) اذكر جهود الدولة لحماية المياه من التلوث ؟

س٣: (أ) اكتب ما تدل عليه كل عبارة :

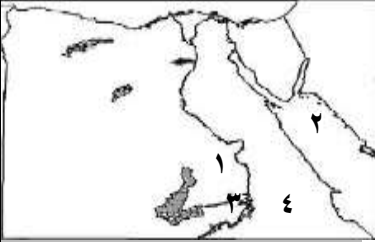
- ١- الموارد التي منحها الله للإنسان دون جهد من جانبه في تكوينها
  - ٢- كهرباء مولدة من خلف السدود و القناطر
  - ٣- زيادة إنتاج الفدان باستخدام الوسائل العلمية في الزراعة
- (ب) وضع دور بطليموس الأول في مجال الزراعة

س٤: أ- أكمل العبارات الآتية :

- ١- دخلت المسيحية مصر علي يد القديس -----
  - ٢- سمي عصر البطالمة بهذا الاسم نسبة إلى -----
  - ٣- أشهر ثورات المصريين عند الرومان ثورة ----- في الدلتا.
- (ب) وضع سبب تسمية عصر دقلديانوس بعصر الاضطهاد الأكبر  
الامتحان رقم ٧ ( مدرسة البصرات ٢٠١١ )

٣٠

س١: أ) اكتب مدلول الأرقام على الخريطة التالية :



- ١- مشروع -----
- ٢- البحر -----
- ٣- بحيرة -----
- ٤- الصحراء -----

(ب) أكمل العبارات الآتية بكلمات مناسبة:

- ١- يستخدم في صناعة الصلب فحم -----
- ٢- مصر ذات موقع متميز بين قارتي آسيا و -----
- ٣- المصدر الرئيسي لمياه الشرب في الواحات -----

س٢: أ) ضع علامة (✓) أمام العبارة الصحيحة وعلامة (×) أمام العبارة غير الصحيحة:

- ١- يستخدم الفوسفات في صناعة الحلى . ( )
- ٢- حمى السد العالي مصر من أخطار الفيضان والجفاف. ( )
- ٣- يعتبر نهر النيل المصدر الوحيد للثروة السمكية في مصر. ( )

(ب) ما النتائج المترتبة على :

- ١- ارتفاع نسبة تلوث المياه في مصر
- ٢- التوسع في استخدام الطاقة المتجددة

س٣: أ) اختر الإجابة الصحيحة مما بين القوسين :

- ١- تعتبر عوادم وسائل النقل تلوث ..... (ضوضائي- غذائي - هوائي - مائي )
- ٢- تتعدد أنواع الطاقة المتجددة منها ..... (البترول- الفحم - الغاز الطبيعي - الرياح)
- ٣- تتركز صناعة الألمونيوم في مدينة ..... ( القاهرة - حلوان - أسيوط - نجع حمادى )

(ب) بم تفسر:

- ١- انخفاض الإنتاج السمكي في مصر .
- ٢- يعتبر الحديد أساس الصناعات الحديثة .



س ٤ : أ) اكتب المصطلح الدال على كل عبارة من العبارات الآتية :

- ١- كل ما ينتج عن احتراق الوقود .
  - ٢- زيادة الإنتاج الزراعي عن طريق التوسع الأفقى والرأسى .
  - ٣- الموارد التى منحها الله للإنسان دون جهد منها فى تكوينها.
- ب) تهتم مصر بالصناعة اهتماما كبيرا للحاق بركب التقدم والنهضة الاقتصادية"  
فى ضوء العبارة السابقة وضح:
- ١- ما المقصود بالصناعة ؟
  - ٢- اذكر ثلاثا من أهمية الصناعة فى مصر .

عبدالرازق العربى ٠١٠٠٨١٩٧٠٥٨

الامتحان رقم ٨

٣١

س ١: ضع علامة ( √ ) أمام العبارات الصحيحة و علامة ( × ) أمام الخاطئة

- ١- يسبب حرق قش الأرز التلوث المائى
- ٢- يستخدم المنجنيز فى صناعة الأسمدة .
- ٣- يعمل بالزراعة فى مصر نحو ٥٠ ٪ من القوة العاملة .
- ٤- مصر أقدم دولة فى أفريقيا استخداماً للسكك الحديدية .
- ٥- اكتشف معبد رأس السودان بطريق الصعيد عام ١٩٣٦ م .

س ٢: أكمل العبارات الآتية بكلمات مناسبة

- ١- من مصادر المياه العذبة فى مصر ..... و .....
- ٢- من أهم استخدامات الفوسفات فى مصر ..... و .....
- ٣- يحتل محصول ..... و ..... المركز الأول والثانى فى الصادرات المصرية .
- ٤- تنقسم الطاقة إلى نوعين هما طاقة ..... و طاقة .....
- ٥- انتشرت المسيحية فى القرن ..... الميلادى على يد القديس .....

س ٣: اختر مما بين الأقواس

- ١- تبلغ مساحة الأراضي الزراعية فى مصر ..... مليون فدان ( ٢ - ٨.٥ - ٥.٥ - ٧.٥ )
  - ٢- تم إنشاء ميناء ..... لتخفيف الضغط على ميناء الإسكندرية
- ( دمياط - سفاجا - السويس - بورسعيد )
- ٣- نجح ..... فى تأسيس دولة البطالمة فى مصر
- ( الإسكندر الأكبر - فيليب الثانى - بطليموس الأول - أرشميدس )
- ٤- عام ..... ق.م جاء أكتافىوس إلى مصر و استولى عليها ( ٣٣ - ٣١ - ٣٢ - ٣٠ )
  - ٥- ولد السيد المسيح ببيت لحم فى ..... ( سوريا - العراق - فلسطين - مصر )

لمزيد من المذكرات والكتب زر موقعنا المدرس بوك ( [www.modrsbook.com](http://www.modrsbook.com) )

س ٤ : أ) ضع دائرة حول الكلمة التي لا تنتمي إلى المجموعة فيما يلي

- ١- قصدير ، غابات ، نحاس ، ذهب
- ٢- الصناعات الكيماوية ، رعى الأغنام ، أغذية محفوظة ، غزل ونسيج
- ٣- بورسعيد ، طنطا ، السويس ، الإسكندرية .

ب) من أنا

- ١- اضطهدت المسيحية في مصر وسمى عهدي بعصر الشهداء .
- ٢- تحالفت مع أنطونيوس ضد اكتافيرس في معركة أكتيوم البحرية .

س ٥ : أ) ما المقصود بالمفاهيم الجغرافية الآتية

- ١- إجمالي الأشياء التي تحيط بنا وتشمل كائنات حية وظواهر طبيعية ومظاهر حضارية
  - ٢- هي عملية يتم فيها فصل مكونات البترول من الزيت الأصلي .
  - ٣- هي الكهرباء المائية المولدة من خلف السدود والقناطر والخزانات .
  - ٤- لفظ أطلق على مكان دفن الموتى ومشتقة من كلمة الجب أى البئر .
- ب) قارن بين التجارة الداخلية والتجارة الخارجية ؟

عبدالرازق العربي ٠١٠٠٨١٩٧٠٥٨

٣٢

الامتحان رقم ٩

س ١ : أكمل العبارات الآتية

- ١- يوجد الحديد في مصر في -----
- ٢- يعتبر ----- أكبر مناطق إنتاج الغاز الطبيعي في مصر
- ٣- يعمل بالزراعة في مصر نحو ----- من إجمالي قوة العمل
- ٤- تم إنشاء ميناء ----- لتخفيف الضغط عن ميناء الإسكندرية
- ٥- تقع معظم مساحة مصر في الإقليم -----

س ٢ : ضع علامة (√) أمام العبارات الصحيحة وعلامة (×) أمام العبارات الخاطئة

- ١- استمر حكم البطالمة في مصر نحو ٦٠٠ عام ( )
- ٢- تسبب إلقاء المخلفات في النيل تلوثاً هوائياً ( )
- ٣- تسير خطوط السكك الحديدية عمودية على اتجاه النيل ( )
- ٤- الطاقة الشمسية طاقة متجددة ( )
- ٥- دخلت المسيحية مصر على يد القديس باخوم ( )

س ٣ : اكتب المصطلح العلمي لكل عبارة مما يأتي

- ١- كهرباء ناتجة عن احتراق الفحم والبترول والغاز الطبيعي
- ٢- معدن أصفر اللون الجرام منه أغلى ثمناً من كيلو النحاس
- ٣- اتحاد اقتصادي وسياسي يضم ٢٧ دولة
- ٤- تجارة تتم داخل حدود الدولة

٥- كل الموارد التي منحها الله للإنسان دون جهد من جانبه فى تكوينها

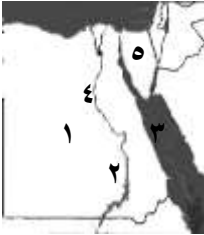
س ٤ : اختر الإجابة الصحيحة مما بين الأقواس

- ١- أنشئت دار البحث العلمى فى عهد بطليموس ----- ( الأول- الثانى - الثالث )
- ٢- أكثر مصادر الطاقة تلويثاً للبيئة ----- ( البترول - الفحم - الرياح )
- ٣- يتم استخراجها من وادى النيل عند السباعية --- (المنجنيز - الفوسفات- الذهب)
- ٤- تطورت صناعة الغزل والنسيج فى مصر على يد -----
- ( طلعت حرب - محمد على- محمد نجيب )
- ٥- من الأسباب البشرية لتدهور الموارد الطبيعية ----- (التصحر- الجفاف- التلوث)

س ٥ : من هو ( انسب كل عمل إلى صاحبه )

- ١- وضع نواة مكتبة الإسكندرية قديماً
  - ٢- أرغم العائلة المقدسة على الهروب الى مصر
  - ٣- حمل لقب أغسطس أى المبجل
  - ٤- تحالفت مع انطونيوس ضد أكتاقيوس
  - ٥- ولد فى بيت لحم بفلسطين وأخذ يدعو للإيمان بآله واحد
- عبدالرازق العربى ٠١٠٠٨١٩٧٠٥٨ أن رقم ١٠ ( إدارة دمايط ٢٠١١ م )

٣٣



س ١ : أمامك خريطة صماء اكتب مدلول الأرقام التى عليها

- ١- منطقة استخراج الحديد -----
- ٢- السد -----
- ٣- البحر -----
- ٤- نهر -----
- ٥- منطقة لاستخراج المنجنيز -----

س ٢ : ضع علامة ( √ ) أمام العبارات الصحيحة وعلامة ( × ) أمام العبارات الخطأ

- ١- استمر حكم البطالمة فى مصر نحو ٣٠٠ عام ( )
- ٢- الإسراف فى استخدام المياه إهدار للموارد الطبيعية ( )
- ٣- النقل البرى يشمل السكك الحديدية والجوى ( )
- ٤- الطاقة الشمسية طاقة متجددة ( )
- ٥- دخلت المسيحية مصر على يد القديس مرقس ( )

س ٣ : اكتب المصطلح العلمى لكل عبارة مما يأتى

- ١- كهرباء مولدة من خلف السدود والقناطر
- ٢- معدن أصفر اللون الجرام منه أغلى ثمناً من كيلو النحاس
- ٣- اتحاد اقتصادى وسياسى للدول الأوروبية يضم ٢٧ دولة
- ٤- تجارة تتم داخل حدود الدولة

٥- كل الموارد التي منحها الله للإنسان دون جهد من جانبه في تكوينها

س ٤ : اختر الإجابة الصحيحة مما بين الأقواس

- ١- اهتم بطليموس الأول بالزراعة فأدخل إلى مصر -----  
( الفأس - المحراث - الساقية - الشادوف )
- ٢- أكثر مصادر الطاقة تلويثاً للبيئة ----- ( البترول - الفحم - الرياح - الكهرباء )
- ٣- يتم استخراجها من وادي النيل عند السباعية -----  
( المنجنيز - الفوسفات - النحاس - الذهب )
- ٤- من أشهر مراكز صناعة الغزل والنسيج في مصر مدينة -----  
( أسيوط - المحلة الكبرى - القاهرة - المنيا )
- ٥- تمثل محطات الكهرباء المائية ----- % من إجمالي الطاقة الكهربائية  
( ١٠ - ١٥ - ١٦ - ١٨ )

س ٥ : أ) بم تفسر

- ١- تسمية العصر البطلمي بهذا الاسم .
- ٢- انتحار كليوباترا وحليفها أنطونيوس .
- ٣- إقامة أهل الإسكندرية لعمود السواري .

ب) من هو ( انسب كل عمل إلى صاحبه )

- ١- إصدار مرسوم ميلانو ( ٣١٣ م )
  - ٢- القيام بثورة في الدلتا ضد الحكم الروماني .
- الامتحان رقم ١١ ( إدارة شرق بمحافظة الإسكندرية ٢٠١١ م )

س ١ : أكمل العبارات الآتية :

- ١- تضم البيئة نوعان من الموارد هي موارد طبيعية و -----
- ٢- يحتل ----- المركز الأول من الصادرات المصرية .
- ٣- نجح بطليموس الأول في تأسيس دولة -----
- ٤- يوجد الذهب في مصر في الصحراء -----
- ٥- أول من بشر بالإنجيل في مصر -----

س ٢ : ضع علامة ( √ ) أمام العبارات الصحيحة وعلامة ( × ) أمام العبارات الخطأ

- ١- يوجد الحديد في منطقة الواحات البحرية . ( )
- ٢- انتصر الإمبراطور أنطونيوس على أكتافيوس في معركة أكتيوم . ( )
- ٣- حفر قناة السويس أدى إلى اتصال البحرين الأحمر والمتوسط . ( )
- ٤- نهر النيل هو المصدر الوحيد للثروة السمكية في مصر . ( )
- ٥- أساء الرومان معاملة المصريين . ( )

س ٣ : اختر الإجابة الصحيحة مما بين الأقواس

- ١- يستخدم الفوسفات في صناعة ----- ( الحلي - الأسمدة - الحديد والصلب - السفن )
- ٢- أول خط سكك حديدية أقيم في ----- ( فرنسا - إيطاليا - ألمانيا - إنجلترا )

لمزيد من المذكرات والكتب زر موقعنا المدرس بوك ( [www.modrsbook.com](http://www.modrsbook.com) )

٣- من أشهر علماء جامعة الإسكندرية قديما -----

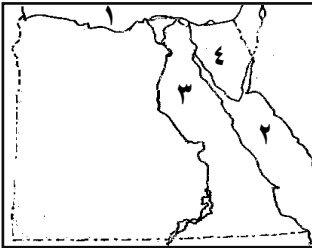
( جاليليو - أغسطس - الإسكندر - أرشميدس )

٤- تبلغ نسبة إنتاج الأسماك في مصر من المياه المالحة ----- % من جملة الإنتاج .  
( ٩١ - ٧١ - ١٩ - ٢٧ )

٥- اعترف ----- بالديانة المسيحية إلى جانب الديانة الوثنية  
( أكتافيوس - بطليموس - دقلديانوس - قسطنطين الأول )

س٤ : اكتب المصطلح العلمي لكل عبارة مما يأتي

- ١- إجراء تحويلات على الموارد بما يجعلها أقدر على إشباع حاجات الإنسان . ( )
- ٢- زيادة مساحة الأرض المزروعة عن طريق استصلاح مزيد من الأرض . ( )
- ٣- المدينة التي اتخذها بطليموس الأول عاصمة لدولته . ( )
- ٤- اللقب الذي حمله بطليموس الأول . ( )
- ٥- هو اتصال الأفراد دون انتقال عبر الهاتف والإنترنت . ( )



س٥ : أ) اكتب ما تدل عليه الأرقام في الخريطة :

- ١- البحر -----
  - ٢- البحر -----
  - ٣- الصحراء -----
  - ٤- منطقة استخراج المنجنيز -----
- ب) بم تفسر : أهمية المياه العذبة في مصر .

عبدالرازق العربي ٠١٠٠٨١٩٧٠٥٨

٣٥

الامتحان رقم ١٢

س١ : أكمل ما يأتي :-

- ١- تبلغ مساحة الأراضي الزراعية في مصر حوالي ..... مليون فدان
- ٢- يعتبر ..... أكثر أنواع الطاقة تلوثا للبيئة
- ٣- تنقسم الصناعة الى صناعة استخراجية وصناعة .....
- ٤- يقع معظم مساحة مصر في الإقليم .....
- ٥- يعتبر ميناء الإسكندرية أهم الموانئ المظلة على البحر .....

س٢ : ضع علامة ( √ ) أمام العبارات الصحيحة و علامة ( × ) أمام الخاطئة :-

١. الطاقة الشمسية طاقة متجددة ( )
٢. يكفي إنتاج القمح واللحوم حاجة السكان. ( )
٣. الأررز يحتل المركز الثاني في صادرات مصر ( )
٤. يتم تزويد مشروع توشكي بالمياه من بحيرة قارون ( )
٥. تشمل الموارد الطبيعية في مصر الطرق والمواصل ( )

س٣ : اكتب ما تدل عليه كل عبارة :-

لمزيد من المذكرات والكتب زر موقعنا المدرس بوك ( [www.modrsbook.com](http://www.modrsbook.com) )

- ١- مخلفات المصانع ونفايات السفن .....
- ٢- اتحاد اقتصادى وسياسى يضم ٢٧ دولة .....
- ٣- يعتبر ..... أرخص أنواع النقل ويستخدم لنقل البضائع الثقيلة كبيرة الحجم
- ٤- تجارة تتم داخل حدود الدولة .....
- ٥- بناء فى النهر يستخدم لحفظ وتوليد الكهرباء .....

س ٤ : اختر الإجابة الصحيحة مما بين الأقواس :-

- ١- الاتحاد الأوربي يستورد من مصر حوالى ..... % [ ١٢ - ٢٢ - ٣٢ - ٤٢ ]
- ٢- عاصمة مصر في عهد البطالمة مدينة ..... [ القاهرة - الإسكندرية - الجيزة ]
- ٣- حكم البطالمة مصر حوالى ..... [ ٢٠٠ عام - ٣٠٠ عام - ٤٠٠ عام ]
- ٤- من مصايد المياه العذبة ..... [ البحر المتوسط - البحر الأحمر - بحيرة ناصر ]
- ٥- يعتبر ..... مؤسس دولة البطالمة فى مصر [ الاسكندر - فليب الثانى - بطليموس الأول ]

س ٥ : أ) بم تفسر : ( أذكر سببا واحدا ) :-

- ١- قلة المراعي الطبيعية فى مصر
  - ٢- يعتبر ميناء الإسكندرية ذو أهمية كبيرة .
  - ٣- قلة الأهمية الاقتصادية لموانئ البحر الأحمر .
- ب) اذكر أهم أعمال بطليموس الأول .

عبدالرازق العربى ٠١٠٠٨١٩٧٠٥٨

٣٦

الامتحان رقم ١٣

س ١ : أمامك خريطة صماء وضع مدلول

الأرقام الآتية عليها:

- ١- مكان استخراج المنجنيز .....
- ٢- مركز صناعة الألمونيوم .....
- ٣- بحيرة عذبة لصيد الأسماك .....
- ٤- عمود شهير بمدينة الإسكندرية .....
- ٥- مصدر رئيس للمياه العذبة .....

س ٢ : ضع علامة ( √ ) أمام العبارات الصحيحة و علامة ( × ) أمام الخاطئة :-

- ١- يمثل البترول أكثر مصادر الطاقة تلويثا للبيئة ( ) .
- ٢- تسير خطوط السكك الحديدية عمودية على نهر النيل ( ) .
- ٣- كانت منف عاصمة لمصر زمن الحكم الرومانى ( ) .

لمزيد من المذكرات والكتب زر موقعنا المدرس بوك ( [www.modrsbook.com](http://www.modrsbook.com) )

٤- اكتشف معبد رأس السوءاء بطريق المصادفة عام ١٩٣٦ م ( ) .

٥- حكم بطليموس مصر ٣٨ عاماً ( ) .

س٣: اكتب ما تشير إليه كل عبارة:

- ١- معدن تقوم عليه صناعة الأسمدة.
- ٢- انتقال السلع والخدمات من مكان إلى آخر .
- ٣- يتم عن طريقها توصيل مياه النيل إلى سيناء .
- ٤- أدخل المسيحية إلى مصر .
- ٥- أسرع وسائل النقل وأكثرها ارتفاعاً للتكاليف.

س٤ : أكمل:

- ١- عصر الشهداء أطلق على عصر الإمبراطور .....
- ٢- يعوق الملاحة النهرية في مصر .....
- ٣- يوجد دير المحرق في محافظة .....
- ٤- جبانة كوم الشقافة من الآثار .....
- ٥- يعتمد مشروع شرق جبل العوينات على مياه ..... لرى الأراضي الزراعية هناك.

س٥ : أ) بم تفسر:

- ١- قلة النبات الطبيعي في مصر.
- ٢- إنهيار دولة الرومان في مصر.

ب) اختر الصواب مما بين القوسين:

- ١- تعتبر ..... مركز صناعة الآثار في مصر . ( شبرا الخيمة - المحلة الكبرى - دمياط ) .
- ٢- لقب الإمبراطور ..... بالمنقذ . ( فيليب الثانى - اوكتافىوس - بطليموس الأول )
- ٣- أول من نعب عن الذهب هم ..... ( المصريون القدماء - الفرس - الرومان )

س١: أكمل العبارات التالية :

- ١- يقتصر وجود الأمطار الشتوية في مصر على .....
- ٢- الإسراف في استخدام المياه إهدار للموارد .....
- ٣- بدأ السيد المسيح دعوته على أرض .....
- ٤- يعتبر ..... المصدر الرئيسى للمياه العذبة بمصر
- ٥- تصل مياه نهر النيل إلى شمال سيناء عن طريق .....
- ٦- حمى السد العالى مصر من أخطار ..... و .....
- ٧- يعد الحديد أساس ..... بينما يستخدم معدن ..... فى صناعة الأسمدة.
- ٨- أول من نعب عن الذهب كان .....
- ٩- أقل مصادر الطاقة الغير متجددة أهمية هو .....

- ١٠- أشهر ثورات المصريين ثورة ..... فى الدلتا .
- ١١- يعتبر ..... من مشتقات البترول.
- ١٢- من مقومات الصناعة ..... و ..... و .....
- ١٣- أهم مناطق صناعة الغزل والنسيج فى مصر ..... و .....
- ١٤- بدأت صناعة الغزل والنسيج على يد ..... وتطورت على يد .....
- ١٥- تعتبر ..... أهم شريك تجارى لمصر بعد الاتحاد الأوروبى.
- ١٦- أقيم أول خط سكة حديد بمصر عام ١٨٥٦ بين ..... و .....
- ١٧- كانت مصر من نصيب ..... بعد وفاة الإسكندر.

س٢ : ضع علامة ( √ ) أمام العبارات الصحيحة و علامة ( × ) أمام الخاطئة :-

- ١- يدخل المنجنيز فى صناعة الصلب. ( )
- ٢- الطاقة الشمسية طاقة متجددة. ( )
- ٣- البترول أقل أهمية من الفحم والغاز الطبيعى كمصدر للطاقة. ( )
- ٤- الغاز الطبيعى من مشتقات البترول. ( )
- ٥- يكفى إنتاج القمح واللحوم حاجة السكان. ( )
- ٦- بدأ وضع حجر أساس مشروع توشكى فى ٩ يناير ١٩٩٧م. ( )
- ٧- يهدف مشروع شرق العوينات إلى استصلاح ٥٥٥ فدان. ( )
- ٨- تبلغ مساحة إنتاج السمك من المياه العذبة ١٨ ٪. ( )
- ٩- الأرز يحتل المركز الثانى فى صادرات مصر. ( )
- ١٠- تنقسم الصناعات الحديثة إلى نوعين. ( )
- ١١- أسس طلعت حرب بنك مصر عام ١٩٢٠م. ( )
- ١٢- ساعد سطح مصر على إنشاء السكك الحديدية. ( )
- ١٣- يوجد فى مصر حوالي ٦٠ مطاراً. ( )
- ١٤- قناة السويس تربط بين البحر الأحمر والبحر المتوسط. ( )
- ١٥- آخر ملوك دولة البطالمة كليوباترا السابعة. ( )
- ١٦- حكم البطالمة مصر من ٣٢٣ ق.م إلى ٣٠ ق.م. ( )
- ١٧- أدخل إلى مصر الساقية والشادوف بطليموس السادس. ( )
- ١٨- ضعفت دولة البطالمة بعد عهد بطليموس الأول مباشرة. ( )
- ١٩- جبانة كوم الشقافة خليط من الفن الرومانى والإسلامي. ( )
- ٢٠- أصبحت مصر ولاية رومانية عام ٤٠ ق.م. ( )
- ٢١- كليوباترا السابعة زوجة الإمبراطور أنطونيوس. ( )
- ٢٢- دخلت المسيحية مصر على يد القديس مرقس. ( )
- ٢٣- رحب الرومان بالمسيحية كديانة جديدة. ( )
- ٢٤- انتشرت المسيحية فى القرن الأول الميلادي. ( )

س٣: اكتب المفهوم التى تدل عليه كل عبارة:-

لمزيد من المذكرات والكتب زر موقعنا المدرس بوك ( [www.modrsbook.com](http://www.modrsbook.com) )



- ١- زيادة منسوب الماء فى النهر أعلى من ضفافه
- ٢- هى جزء من قشرة سطح الأرض مثل الحديد والفوسفات
- ٣- هى عملية يتم فيها فصل مكونات البترول عن الزيت الأصيل
- ٤- هى طاقة الرياح والشمس والأمواج ولا تنتهى
- ٥- زيادة الإنتاج عن طريق التوسع الأفقى والرأسى
- ٦- تسبب إعاقة للملاحة النهرية فى النيل
- ٧- هى أماكن مخصصة لعبادة الآلهة
- ٨- لفظ أطلق على دفن الموتى ومشتق من كلمة جب

س٤: اكتب تعريفا لكل مما يلى :

- الموارد الطبيعية - التلوث - الجفاف - التلوث - الكهرباء الحرارية - التوسع الأفقى -  
التوسع الرأسى - الاتحاد الأوروبى - الصناعة - الصناعات الاستخراجية - الكوميسا -  
التجارة - الاتصالات - جبانة كوم الشقافة - عمود السوارى - عصر الشهداء .

س٥: بم تفسر ... ؟

- ١- أهمية الطاقة فى الصناعة .
- ٢- الزراعة أكبر نشاط اقتصادى فى مصر .
- ٣- ندرة المراعى فى مصر .
- ٤- زيادة النمو الاقتصادى يؤدى إلى تدهور البيئة الريفية .
- ٥- اهتمام بطليموس الأول بإنشاء الكثير من المناحل .
- ٦- تحول مصر إلى ولاية رومانية عام ٣٠ ق . م .
- ٧- انهيار الحكم الرومانى فى مصر .
- ٨- اضطهاد أباطرة الرومان للمسيحية والمسيحيين .
- ٩- تسمية الكنيسة المعلقة بهذا الاسم .
- ١٠- أهمية ميناء الإسكندرية لمصر .
- ١١- أهمية مترو الأنفاق فى مصر .
- ١٢- تمتد الطرق البرية فى مصر موازية للوادي .

مراجعة للمتفوقين

س١: ماذا يحدث لو .....؟

- ١- اهتم الإنسان بالموارد المائية وعدم الإسراف فيها
- ٢- زاد استخدام طاقة الرياح والشمس .
- ٣- زاد إنتاج الأسماك فى مصر .
- ٤- توسعت مصر فى صناعة الكمبيوتر وملحقاته
- ٥- لم يتم حفر قناة السويس
- ٦- نجحت مشروعات التنمية الزراعية فى مصر .
- ٧- زادت الصادرات المصرية إلى دول العالم .

- ٨- نجحت مصر فى تعمير الصحراء الشرقية و الغربية و سيناء .
- ٩- لم يقف الإمبراطور دقلديانوس موقف عدائياً من المسيحية .
- ١٠- أهتم الإنسان بالموارد المائية وعدم الإسراف فيها.

س٢: بم تفسر ... ؟

- ١- قيام الزراعة فى وادى النيل .
- ٢- نمو المدن وتزايد وسائل المواصلات .
- ٣- اهتمام المصريين القدماء بالذهب .
- ٤- تلوث مياه نهر النيل .
- ٥- انخفاض الإنتاج السمكى من البحرين الأحمر والمتوسط .
- ٦- إقامة مشروع توشكى وشرق العوينات .
- ٧- البحر المتوسط أكثر بحار العالم تلوثاً .
- ٨- لقب بطليموس الأول بلقب سوتير أى المنقذ .
- ٩- رغبة بطليموس الأول فى الانفراد بحكم مصر .
- ١٠- انتحار أنطونيوس وكليوباترا .
- ١١- سقوط دولة البطالمة .
- ١٢- كان حكم قسطنطين نقطة تحول فى تاريخ المسيحية .
- ١٣- اهتمام الرومان ببناء المسارح .
- ١٤- إقامة الرومان حصن بابليون .
- ١٥- ترحيب المصريين باعتناق المسيحية كدين جديد .
- ١٦- يعرف عصر دقلديانوس بعصر الاضطهاد الأكبر .
- ١٧- ترحيب المصريين بقدم العرب المسلمين بقيادة عمرو بن العاص .
- ١٨- شهرة دير المحرق .
- ١٩- تقل أهمية موانى البحر الأحمر عن موانى البحر المتوسط .
- ٢٠- ميناء دمياط مكمل لميناء الإسكندرية .
- ٢١- تنوع وسائل النقل فى مصر .
- ٢٢- توقيع الاتفاقيات الدولية مع دول العالم المختلفة .